

سلسلة 1	عموميات حول الدوال العددية	السنة 1 بكالوريا علوم رياضية
تمرين 1 : حدد مجموعة تعريف الدوال التالية :		
$p(x) = \frac{5- x }{ x +7} \quad , \quad h(x) = \frac{6+x^4}{x-\frac{1}{x}} \quad , \quad g(x) = \frac{x^3-5}{2 x-3 -8} \quad , \quad f(x) = \frac{4 x +3}{x^2+4x+4}$ $m(x) = \sqrt{3- x-4 } \quad , \quad t(x) = \frac{5-\sin(x)}{2\sin(x)-1} \quad , \quad k(x) = \frac{5- x }{x^2-3x+4} \quad , \quad q(x) = \frac{(5-x)(2-x)}{x^2+x-6}$ $l(x) = \sqrt{x^3-8} + \frac{1-x}{ x+1 - x-7 } \quad , \quad r(x) = \frac{x^2+\sqrt{x}}{\sqrt{x^2+x}-2}$		
تمرين 2 : ادرس زوجية الدوال التالية :		
$p(x) = x + x+1 + x-1 \quad , \quad h(x) = \frac{\sin(x)}{x^3-1} \quad , \quad g(x) = \frac{\cos(x)}{x^4+x^2+1} \quad , \quad f(x) = \frac{x^3}{ x +5}$ $k(x) = \frac{\sqrt{ x-2 } + \sqrt{ x+2 }}{x^4-1} \quad , \quad q(x) = x^2+x+1$		
تمرين 3 : نعتبر الدالة : $f(x) = \frac{2x^2+4x+3}{x^2+2x+2}$		
1, بين أن : $\forall x \in \mathbb{R} \quad x^2+2x+2 > 0$		
2, حدد D_f		
3, بين أن $\forall x \in \mathbb{R} \quad 1 \leq f(x) < 2$		
تمرين 4 : أوجد جدول تغيرات الدوال التالية ثم أنشئ تمثيلها المبياني في م.م.م :		
$k(x) = \frac{x}{x+2} \quad , \quad h(x) = \frac{3x-1}{x-2} \quad , \quad g(x) = -2x^2+6x+1 \quad , \quad f(x) = x^2+4x-1$		
$r(x) = \frac{3x}{ x +1} \quad , \quad t(x) = x^2-2 x -3 \quad , \quad m(x) = 2 x +1 \quad , \quad q(x) = -2x^3 \quad , \quad p(x) = \sqrt{x-2}$		
تمرين 5 : نعتبر الدالة : $f(x) = x^2+4x+3$		
1, أدرس تغيرات الدالة f		
2, أنشئ (C_f) منحنى الدالة f في م.م.م.		
3, حدد مبيانيا صورة المجال $[-3,0]$		
4, أ) تحقق أن : $\forall x \in \mathbb{R} \quad f(x) = (x+2)^2 - 1$		
ب) حدد جبريا صورة المجال $[-3,0]$		
5, حدد مبيانيا $f^{-1}([0,3])$		
6, حدد جبريا $f^{-1}([0,3])$		

سلسلة 1	عموميات حول الدوال العددية حلول مقترحة	السنة 1 بكالوريا علوم رياضية
تمرين 1 : لنحدد مجموعة تعريف الدوال التالية :		
$Df = \{x \in \mathbb{R} / x^2 + 4x + 4 \neq 0\} = \{x \in \mathbb{R} / (x+2)^2 \neq 0\}$ $Df = \{x \in \mathbb{R} / x+2 \neq 0\} =]-\infty; -2[\cup]-2; +\infty[$	$f(x) = \frac{4 x +3}{x^2+4x+4}$	
$Dg = \{x \in \mathbb{R} / 2 x-3 -8 \neq 0\}$ $Dg = \{x \in \mathbb{R} / x-3 \neq 4\} = \{x \in \mathbb{R} / x-3 \neq 4 \text{ et } x-3 \neq -4\}$ $Dg = \{x \in \mathbb{R} / x \neq 7 \text{ et } x \neq -1\} =]-\infty; -1[\cup]-1; 7[\cup]7; +\infty[$	$g(x) = \frac{x^3-5}{2 x-3 -8}$	
$Dh = \left\{ x \in \mathbb{R} / x \neq 0 \text{ et } x - \frac{1}{x} \neq 0 \right\} = \left\{ x \in \mathbb{R} / x \neq 0 \text{ et } \frac{x^2-1}{x} \neq 0 \right\}$ $Dh = \{x \in \mathbb{R} / x \neq 0 \text{ et } (x-1)(x+1) \neq 0\}$ $Dh = \{x \in \mathbb{R} / x \neq 0 \text{ et } x \neq -1 \text{ et } x \neq 1\}$ $Dh =]-\infty; -1[\cup]-1; 0[\cup]0; 1[\cup]1; +\infty[$	$h(x) = \frac{6+x^4}{x-\frac{1}{x}}$	
$Dp = \{x \in \mathbb{R} / x +7 \neq 0\} = \mathbb{R}$ (بما أن : $\forall x \in \mathbb{R} / x +7 \geq 7 > 0$)	$p(x) = \frac{5- x }{ x +7}$	
$Dq = \{x \in \mathbb{R} / x^2 + x - 6 \neq 0\}$ $\Delta = 1+24 = 25 \Rightarrow x_1 = \frac{-1+5}{2} = 2 \text{ et } x_2 = \frac{-1-5}{2} = -3$ ولدينا : $Dq =]-\infty; -3[\cup]-3; 2[\cup]2; +\infty[$ إذن :	$q(x) = \frac{(5-x)(2-x)}{x^2+x-6}$	
$Dk = \{x \in \mathbb{R} / x^2 - 3x + 4 \neq 0\}$ $Dk = \mathbb{R}$: إذن $\Delta = 9-16 = -7 < 0 \Rightarrow \forall x \in \mathbb{R} x^2 - 3x + 4 > 0$ ولدينا :	$k(x) = \frac{5- x }{x^2-3x+4}$	
$Dt = \{x \in \mathbb{R} / 2 \sin(x) - 1 \neq 0\} = \left\{ x \in \mathbb{R} / \sin(x) \neq \frac{1}{2} \right\} =$ $Dt = \left\{ x \in \mathbb{R} / \sin(x) \neq \sin\left(\frac{\pi}{6}\right) \right\}$ $Dt = \left\{ x \in \mathbb{R} / x \neq \frac{\pi}{6} + 2k\pi \text{ et } x \neq \pi - \frac{\pi}{6} + 2k\pi / k \in \mathbb{Z} \right\}$ $Dt = \left\{ x \in \mathbb{R} / x \neq \frac{\pi}{6} + 2k\pi \text{ et } x \neq \frac{5\pi}{6} + 2k\pi / k \in \mathbb{Z} \right\}$ $Dt = \mathbb{R} \setminus \left\{ \frac{\pi}{6} + 2k\pi / k \in \mathbb{Z} \right\} \cup \left\{ \frac{5\pi}{6} + 2k\pi / k \in \mathbb{Z} \right\}$	$t(x) = \frac{5-\sin(x)}{2 \sin(x)-1}$	
$Dm = \{x \in \mathbb{R} / 3- x-4 \geq 0\} = \{x \in \mathbb{R} / x-4 \leq 3\} = \{x \in \mathbb{R} / -3 \leq x-4 \leq 3\}$ $Dm = \{x \in \mathbb{R} / 1 \leq x \leq 7\} = [1; 7]$	$m(x) = \sqrt{3- x-4 }$	
$Dr = \{x \in \mathbb{R} / x \geq 0 \text{ et } x^2 + x - 2 \geq 0\}$ $\Delta = 1+8 = 9 > 0$: لدينا $x_1 = 1$ و $x_2 = -2$ $(x^2 + x - 2 \geq 0 \Leftrightarrow (x-1)(x+2) \geq 0 \Leftrightarrow x \in]-\infty; -2[\cup]1; +\infty[)$: منه : $Dr = [0; +\infty[\cap]-\infty; -2[\cup]1; +\infty[=]1; +\infty[$ بالتالي :	$r(x) = \frac{x^2 + \sqrt{x}}{\sqrt{x^2 + x - 2}}$	
<p style="text-align: center;">🌱 لحل المتراجحة الثانية قمنا بتحديد جذور الحدودية $x^2 + x - 2$ وبعد استعمال جدول الاشارات وجدنا المجموعة: $]-\infty; -2[\cup]1; +\infty[$ ، ولكون شرط صلاحية التعبير يتضمن العطف "و" فلنتيجة النهائية عبارة عن تقاطع مجالين.</p>		

$$Dl = \{x \in \mathbb{R} / x^3 - 8 \geq 0 \text{ et } |x+1| - |x-7| \neq 0\}$$

$$Dl = \{x \in \mathbb{R} / x^3 \geq 8 \text{ et } |x+1| \neq |x-7|\}$$

$$Dl = \{x \in \mathbb{R} / x \geq 2 \text{ et } x+1 \neq x-7 \text{ et } x+1 \neq -x+7\}$$

$$Dl = \{x \in \mathbb{R} / x \geq 2 \text{ et } 1 \neq -7 \text{ et } x \neq 3\}$$

$$Dl = \{x \in \mathbb{R} / x \geq 2 \text{ et } x \neq 3\} = [2; 3[\cup]3; +\infty[$$

$$l(x) = \sqrt{x^3 - 8} + \frac{1-x}{|x+1| - |x-7|}$$

تذكر الخاصية: $x^n \geq y^n \Leftrightarrow x \geq y$ حيث n عدد صحيح طبيعي فردي، أما إذا كان n زوجياً فالتكافؤ السابق غير صحيح إلا إذا كان x و y موجبان.

تمرين 2: ادرس زوجية الدوال التالية:

لدينا: $Df = \{x \in \mathbb{R} / |x| + 5 \neq 0\} = \mathbb{R}$ (لأن: $\forall x \in \mathbb{R} \quad |x| + 5 \geq 5 > 0$)
منه: $x \in Df \Rightarrow -x \in Df$

من جهة أخرى، لدينا: $\forall x \in \mathbb{R} \quad f(-x) = \frac{(-x)^3}{|-x| + 5} = \frac{-x^3}{|x| + 5} = -f(x)$
بالتالي: f دالة فردية.

$$f(x) = \frac{x^3}{|x| + 5}$$

لدينا: $Dg = \{x \in \mathbb{R} / x^4 + x^2 + 1 \neq 0\} = \mathbb{R}$ (لأن: $\forall x \in \mathbb{R} \quad x^4 + x^2 + 1 \geq 1 > 0$)

من جهة أخرى، لدينا: $\forall x \in \mathbb{R} \quad g(-x) = \frac{\cos(-x)}{(-x)^4 + (-x)^2 + 1} = \frac{\cos(x)}{x^4 + x^2 + 1} = g(x)$
بالتالي: g دالة زوجية.

$$g(x) = \frac{\cos(x)}{x^4 + x^2 + 1}$$

$Dh = \{x \in \mathbb{R} / x^3 \neq 1\} = \{x \in \mathbb{R} / x \neq 1\} =]-\infty; 1[\cup]1; +\infty[$
بما أن: $-1 \in Dh$ و $1 \notin Dh$ فإن h ليست دالة زوجية و لا فردية.

$$h(x) = \frac{\sin(x)}{x^3 - 1}$$

عدم صحة الشرط $x \in Dh \Rightarrow -x \notin Dh$ ينفي مباشرة زوجية وفردية الدالة.

$$Dp = \mathbb{R}$$

$\forall x \in \mathbb{R} \quad p(-x) = |-x| + |-x+1| + |-x-1| = |x| + |x-1| + |x+1| = p(x)$
بالتالي p دالة زوجية.

$$p(x) = |x| + |x+1| + |x-1|$$

$$Dq = \mathbb{R}$$

لدينا: $q(1) = 3$ و $q(-1) = 1$ منه: $q(-1) \neq q(1)$ و $q(-1) \neq -q(1)$
بالتالي فإن q ليست دالة زوجية و لا فردية.

$$q(x) = x^2 + x + 1$$

إتبات عدم زوجية دالة يجب أن يكون باستعمال مثال مضاد، حيث أن نفي العبارة:

$\forall x \in Dq \quad q(-x) = q(x)$ هو $\exists x \in Dq \quad q(-x) \neq q(x)$ وهو ما يعني إيجاد مثال يحقق هذه العبارة الأخيرة ونفس الشيء بالنسبة لنفي الفردية.

$$Dk = \{x \in \mathbb{R} / x^4 - 1 \neq 0\} = \{x \in \mathbb{R} / (x-1)(x+1)(x^2+1) \neq 0\}$$

$$Dk =]-\infty; -1[\cup]-1; 1[\cup]1; +\infty[$$

منه: $x \in Dk \Rightarrow -x \in Dk$ و $\forall x \in \mathbb{R} \quad k(-x) = k(x)$
بالتالي فإن k دالة زوجية.

$$k(x) = \frac{\sqrt{|x-2|} + \sqrt{|x+2|}}{x^4 - 1}$$

$$f(x) = \frac{2x^2 + 4x + 3}{x^2 + 2x + 2} \quad \text{تمرين 3}$$

$$1 \quad \forall x \in \mathbb{R} \quad x^2 + 2x + 2 = (x-1)^2 + 1 > 0 \quad \text{لدينا:}$$

$$2 \quad Df = \{x \in \mathbb{R} / x^2 + 2x + 2 \neq 0\} = \mathbb{R} \quad \text{لأن الشرط } x^2 + 2x + 2 \neq 0 \text{ محقق لكل عدد حقيقي حسب السؤال السابق}$$

$$3 \quad \text{لدينا: } \forall x \in \mathbb{R} \quad f(x) - 1 = \frac{2x^2 + 4x + 3}{x^2 + 2x + 2} - 1 = \frac{x^2 + 2x + 1}{x^2 + 2x + 2} = \frac{(x+1)^2}{x^2 + 2x + 2} \geq 0$$

$\forall x \in \mathbb{R} \quad 1 \leq f(x) < 2$ بالتالي ، $\forall x \in \mathbb{R} \quad f(x) - 2 = \frac{2x^2 + 4x + 3}{x^2 + 2x + 2} - 2 = \frac{-1}{x^2 + 2x + 2} < 0$ و

تمرين اعتيادي و بسيط بالنسبة لشعبة العلوم الرياضية، لكنه من بين التمارين المدرجة للتذكير ببعض القواعد

تمرين 4 :

x	$-\infty$	-2	$+\infty$
f(x)			

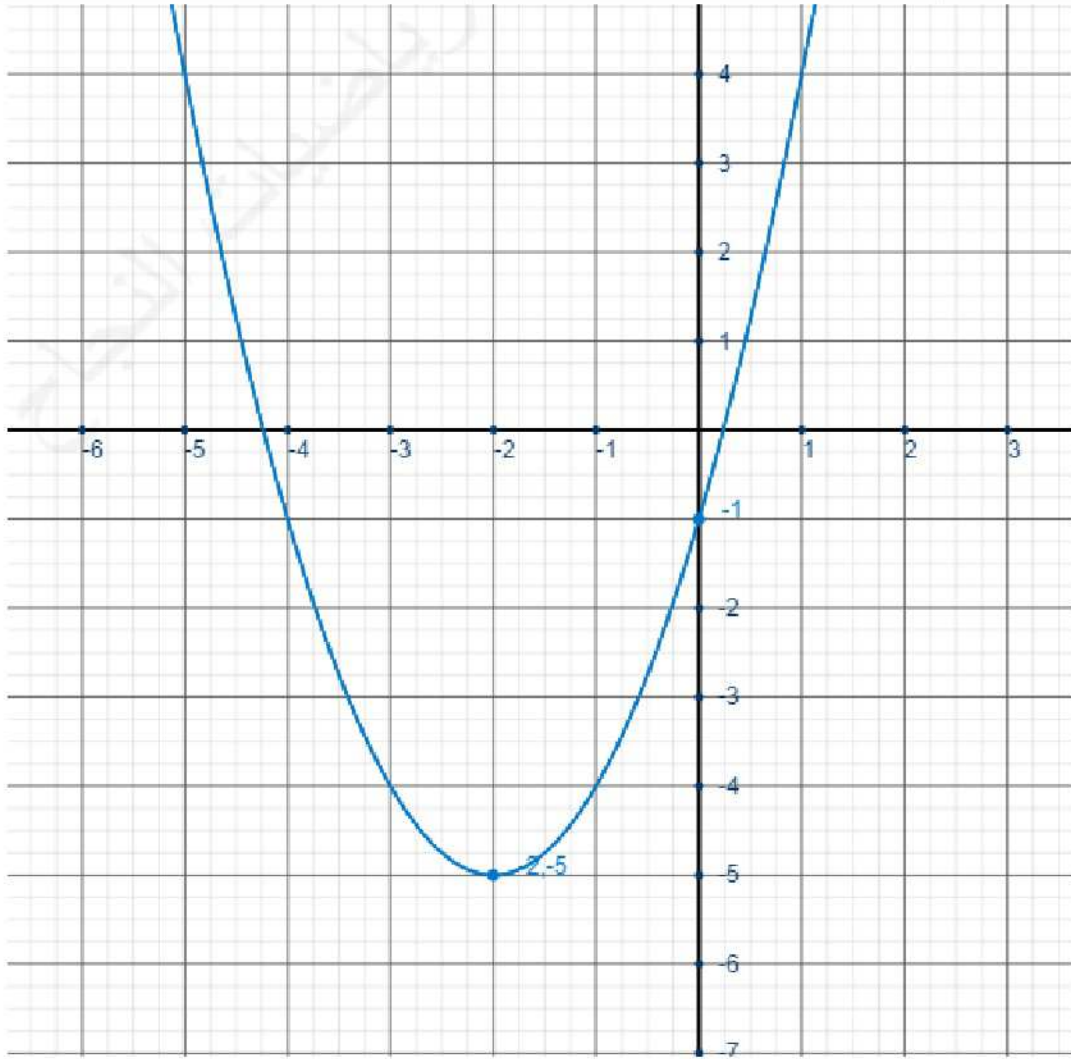
f عبارة عن دالة حدودية من الدرجة الثانية، إذن تمثيلها المبياني

عبارة عن شلجم رأسه :

$$\frac{-b}{2a} = \frac{-4}{2} = -2$$

إذن :

$$f(x) = x^2 + 4x - 1$$



x	$-\infty$	$\frac{3}{2}$	$+\infty$
g(x)			

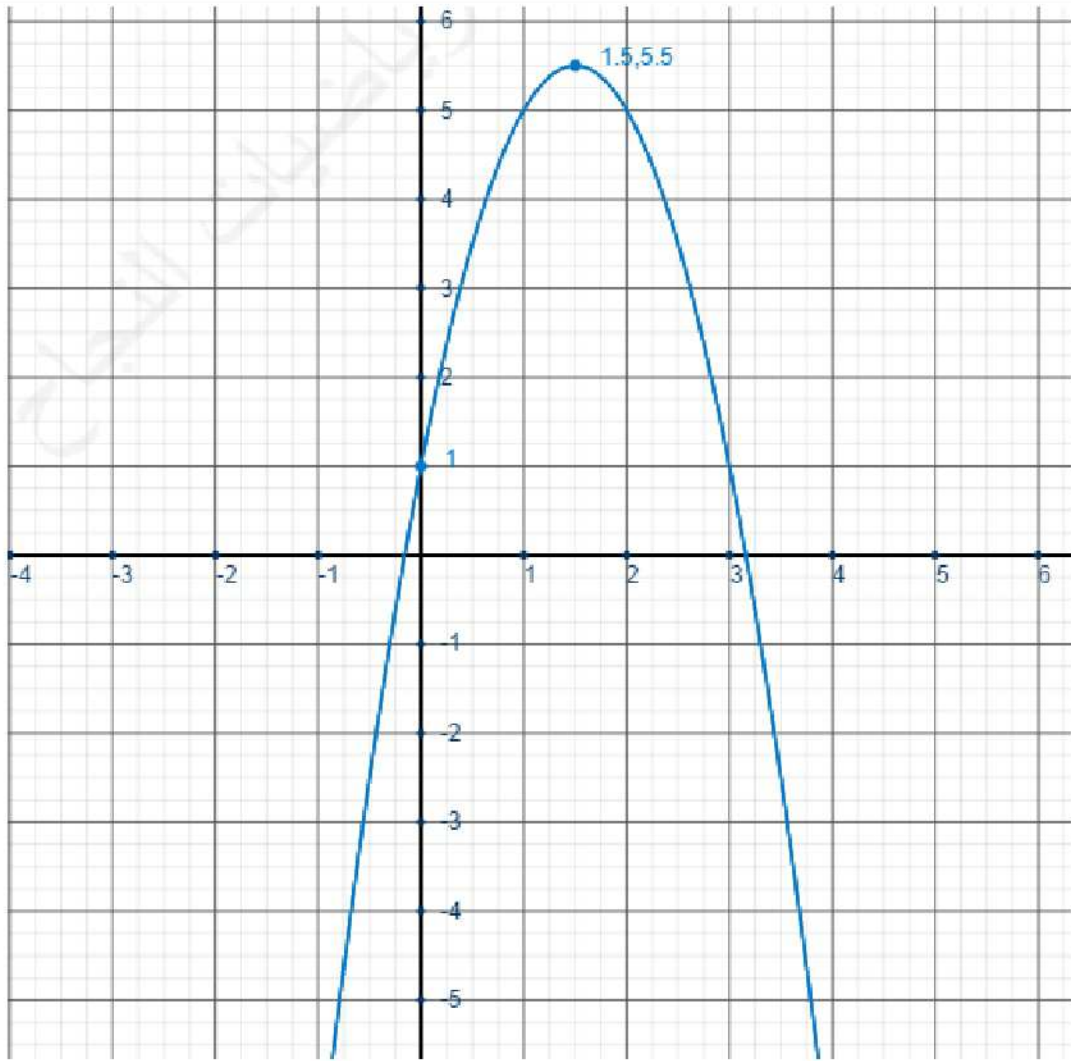
g عبارة عن دالة حدودية من الدرجة الثانية، إذن تمثيلها المبياني عبارة عن

$$\frac{-b}{2a} = \frac{-6}{-4} = \frac{3}{2}$$

شلجم رأسه :

إذن :

$$g(x) = -2x^2 + 6x + 1$$



لاحظ أن رتابة الدالة تعتمد على إشارة المعامل a

h عبارة عن دالة على شكل

إذن تمثيلها المبياني عبارة عن $\frac{ax+b}{cx+d}$ هذلول:

x	$-\infty$	2	$+\infty$	
$h(x)$	↘		↘	

$$h(x) - 3 = \frac{3x-1}{x-2} - 3$$

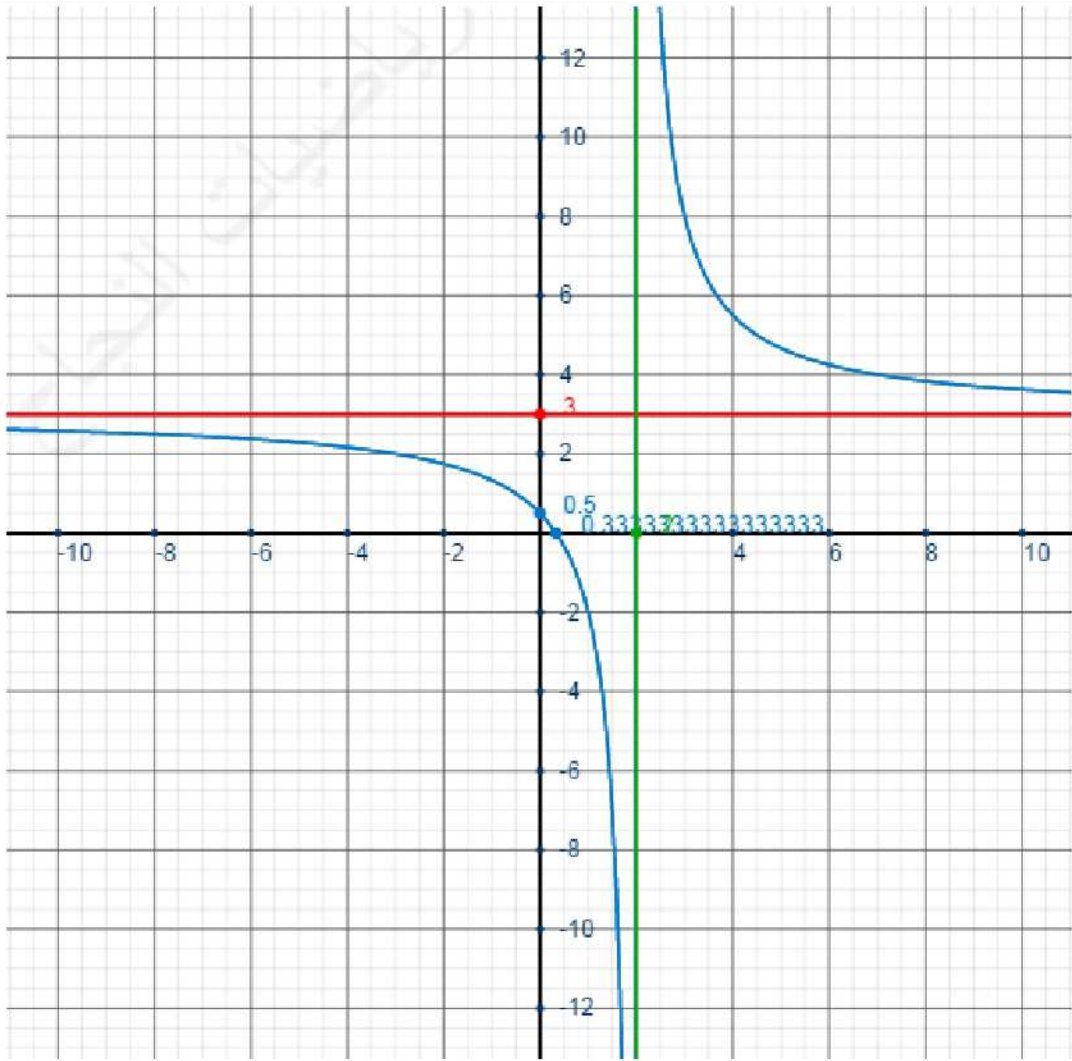
$$h(x) - 3 = \frac{3x-1-3x+6}{x-2} \quad \text{ولدينا:}$$

$$h(x) - 3 = \frac{5}{x-2}$$

إذن الهذلول مركزه: $\Omega(2,3)$ وبما أن

$5 > 0$ فالدالة تناقصية

$$h(x) = \frac{3x-1}{x-2}$$



k عبارة عن دالة على شكل

إذن تمثيلها المبياني عبارة
 $\frac{ax+b}{cx+d}$
 عن هذلول:

$$k(x) - 1 = \frac{x}{x+2} - 1$$

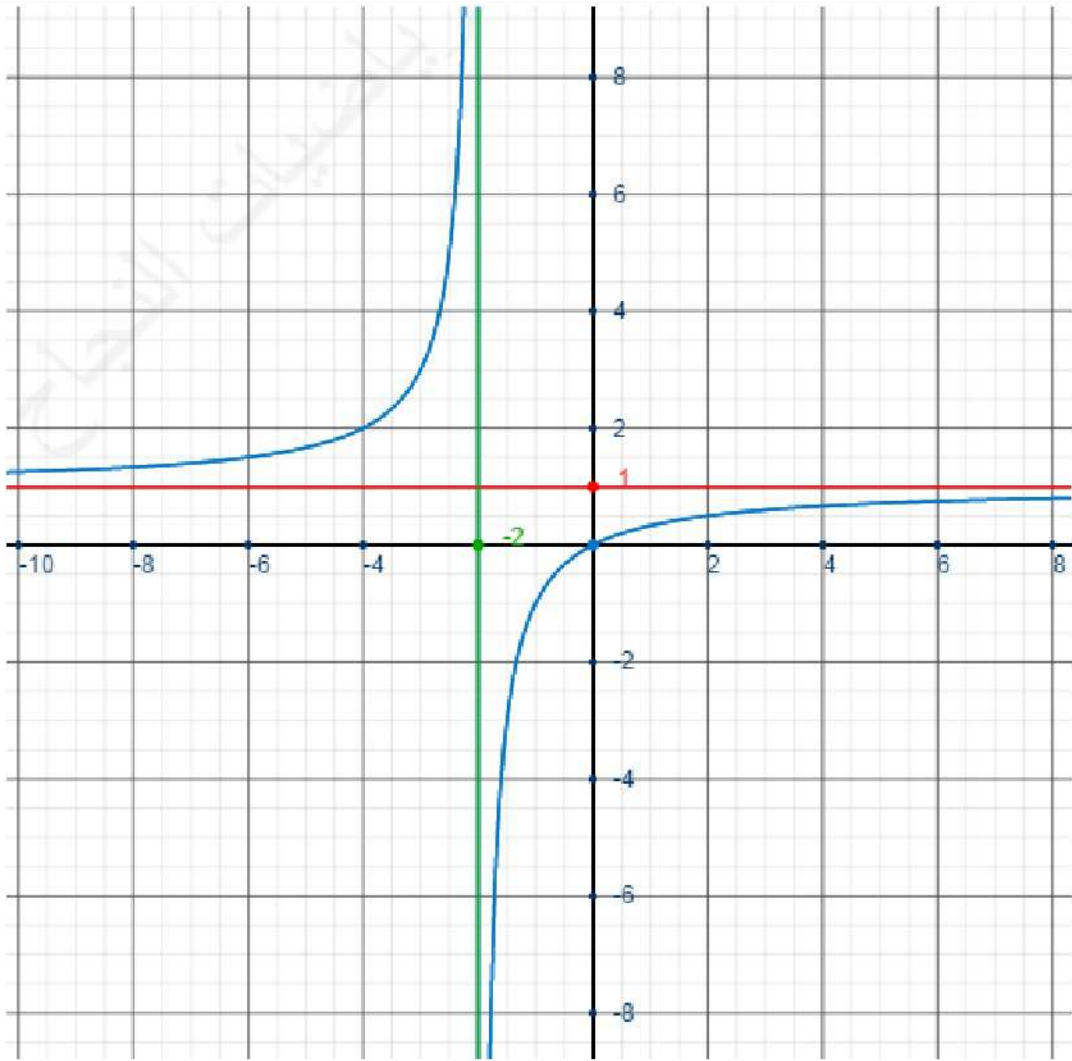
$$k(x) - 1 = \frac{x - x - 2}{x+2} \quad \text{ولدينا}$$

$$k(x) - 1 = \frac{-2}{x+2}$$

إذن الهذلول مركزه: $\Omega(-2, 1)$ وبما
 أن $-2 < 0$ فالدالة تزايدية

$$k(x) = \frac{x}{x+2}$$

x	$-\infty$	-2	$+\infty$	
k(x)	↗		↗	

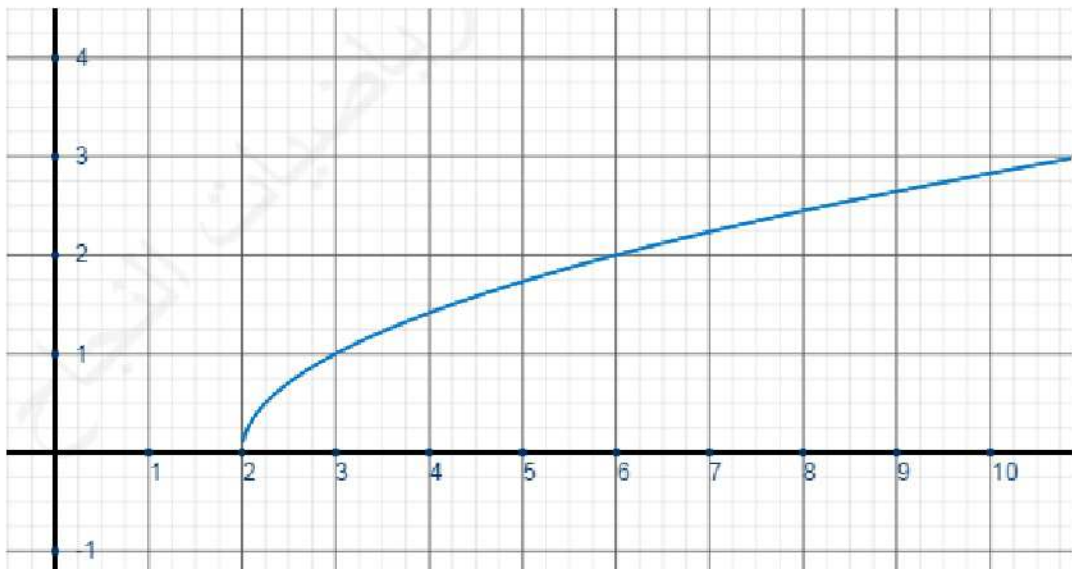


لاحظ أنه لتحديد مركز الهذلول نحسب الفرق $\frac{ax+b}{cx+d} - \frac{a}{c}$

x	$-\infty$	2	$+\infty$
p(x)			↗ 0

p عبارة عن دالة على شكل
إذن: $\sqrt{x+a}$

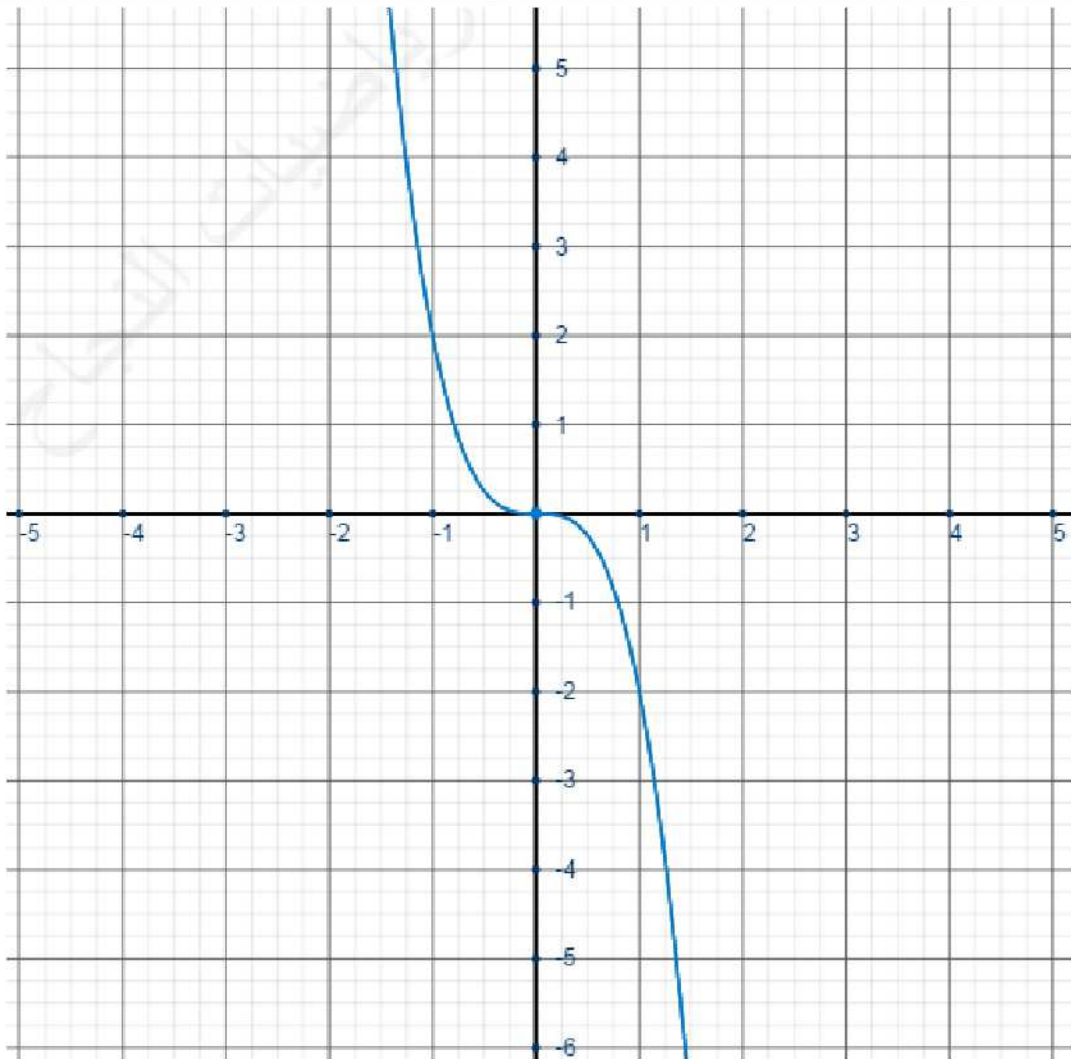
$$p(x) = \sqrt{x-2}$$



x	$-\infty$	0	$+\infty$
f(x)			

q عبارة عن دالة على شكل ax^3 و بما أن $a = -2 < 0$ ، فإن :

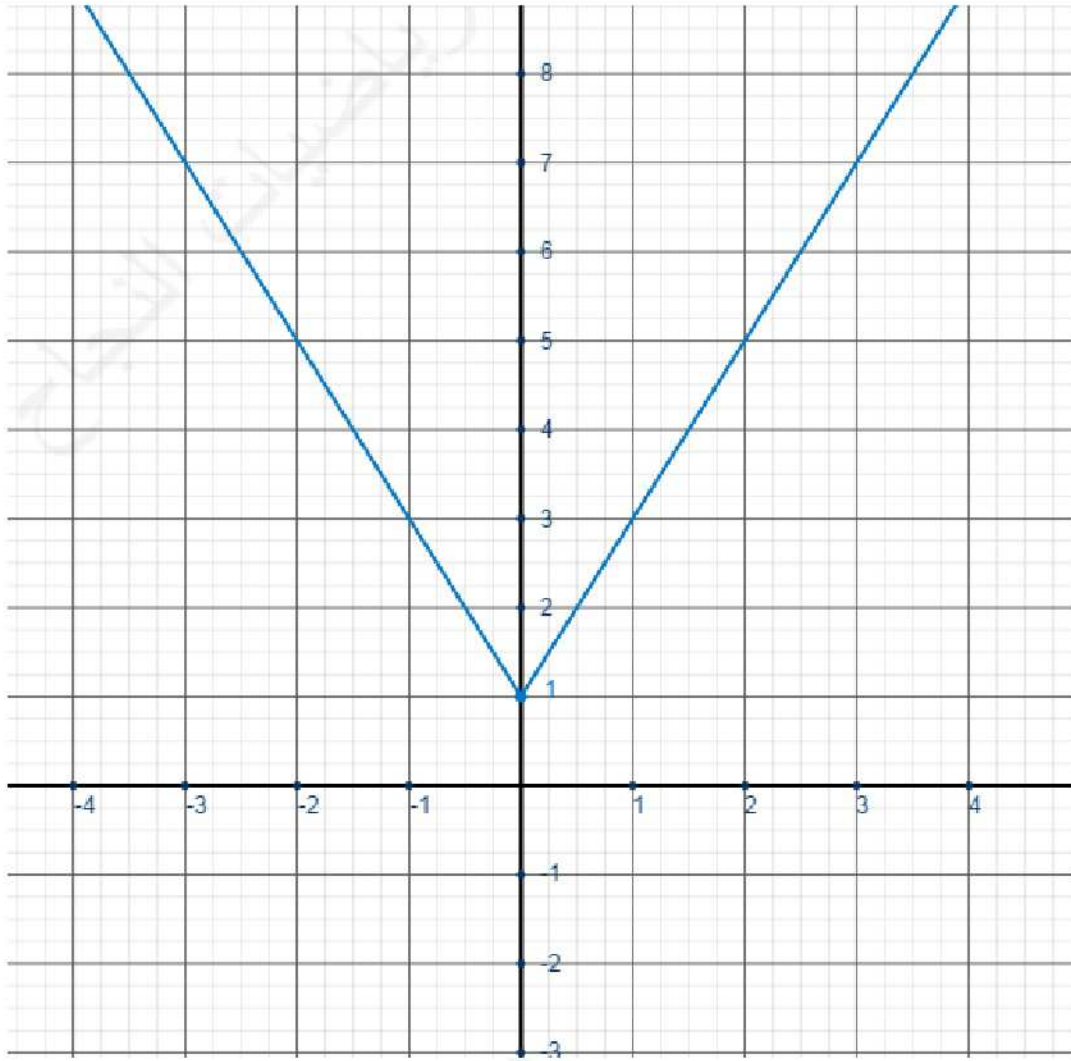
$$q(x) = -2x^3$$



x	$-\infty$	0	$+\infty$
m(x)			

نبين بسهولة أن m دالة زوجية و
أن قصورها على $[0; +\infty[$ هو
دالة تآلفية أي تمثيلها المبياني على
هذا المجال سيكون نصف
مستقيم، وباستعمال الزوجية نجد:

$$m(x) = 2|x| + 1$$



للتذكير نحتاج بالطبع لحساب صورة عددين (في الشكل أعلاه: $m(1)=3$ و $m(0)=1$)

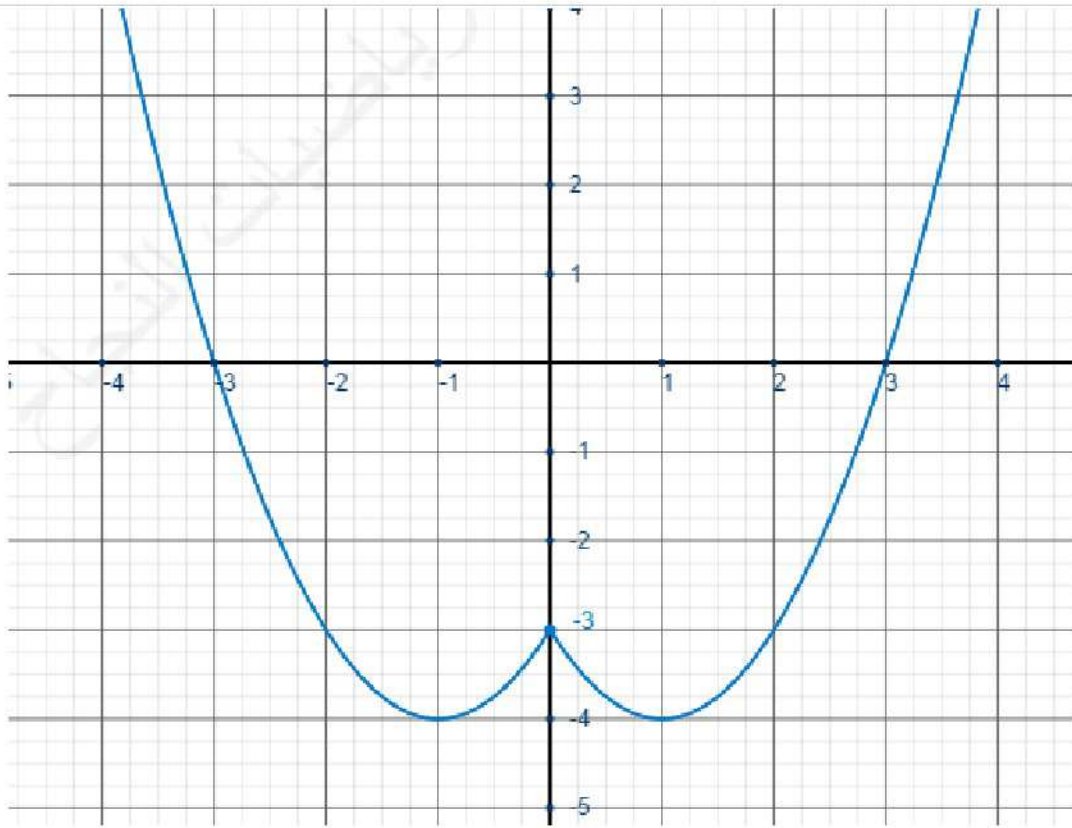
نبين بسهولة أن t دالة زوجية وأن قصورها على $[0; +\infty[$

($\forall x \in [0; +\infty[$ $t(x) = x^2 - 2x - 3$) هودالة حدودية من الدرجة الثانية أي تمثيلها

المبياني على هذا المجال سيكون جزءا من شلجم، وباستعمال الزوجية نجد:

x	$-\infty$	-1	0	1	$+\infty$
t(x)		-4	-3	-4	

$$t(x) = x^2 - 2|x| - 3$$



إذا كانت دالة ما زوجية أو فردية فيكفي دراستها على $[0; +\infty[$ لاستنتاج منحناها على كل المجموعة \mathbb{R}

نبين بسهولة أن r دالة فردية وأن قصورها على $[0; +\infty[$

هو خارج حدائيتين أي أن تمثيلها المبياني على هذا المجال $(\forall x \in [0; +\infty[r(x) = \frac{3x}{x+1})$

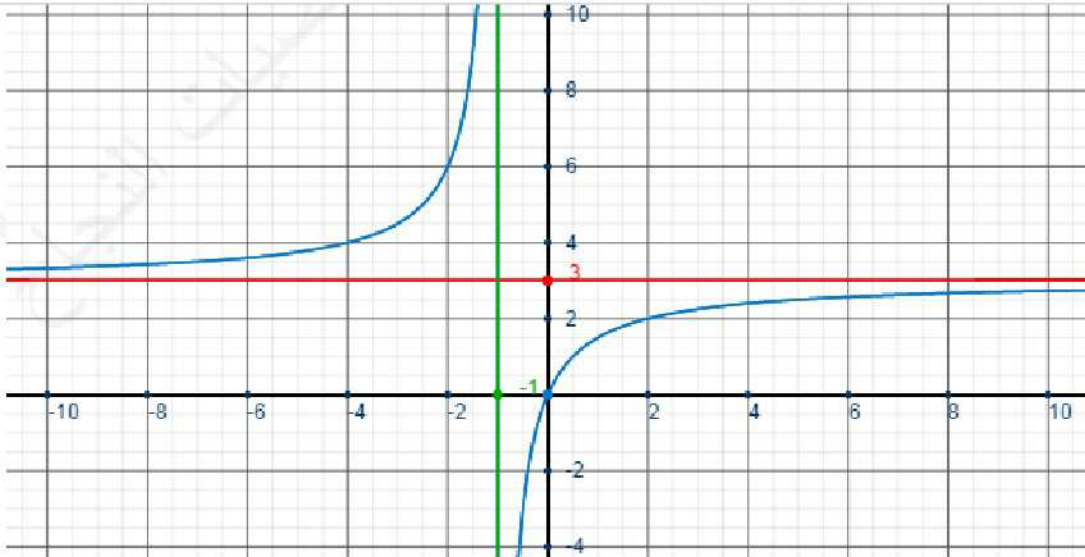
سيكون جزءا من هذلول وباستعمال الزوجية نجد: (بعد إنجاز جدول التغيرات الدالة

$x \mapsto \frac{3x}{x+1}$ نحتفظ بالجزء الذي يتضمن المجال $[0; +\infty[$ ولكون الدالة فردية

سيكون لها نفس الرقابة على $]-\infty; 0]$

$$r(x) = \frac{3x}{|x|+1}$$

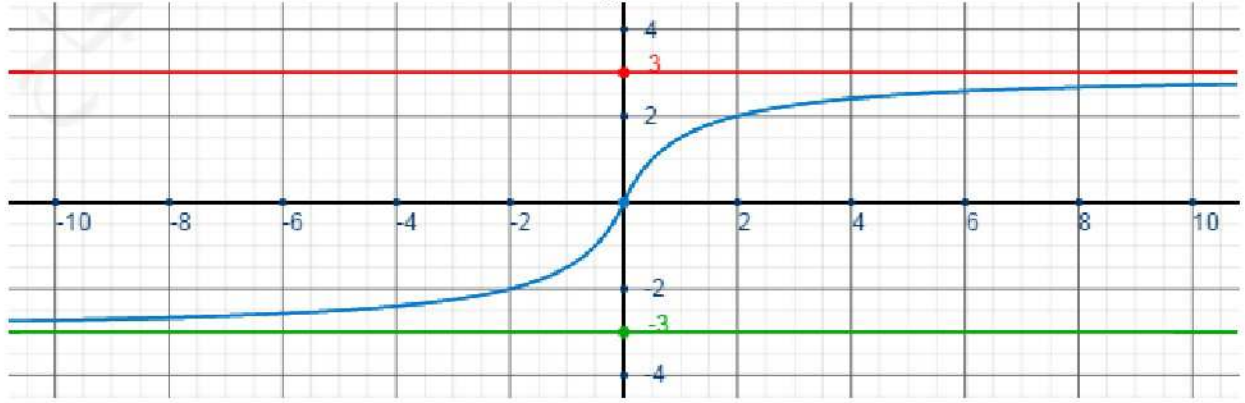
x	$-\infty$	0	$+\infty$
$r(x)$			



التمثيل المبياني

للدالة $x \mapsto \frac{3x}{x+1}$

التمثيل المبياني للدالة $r(x)$



تم إدراج التمثيل المبياني للدالة $x \mapsto \frac{3x}{x+1}$ فقط لأجل توضيح طريقة إنشاء التمثيل المبياني للدالة $r(x)$

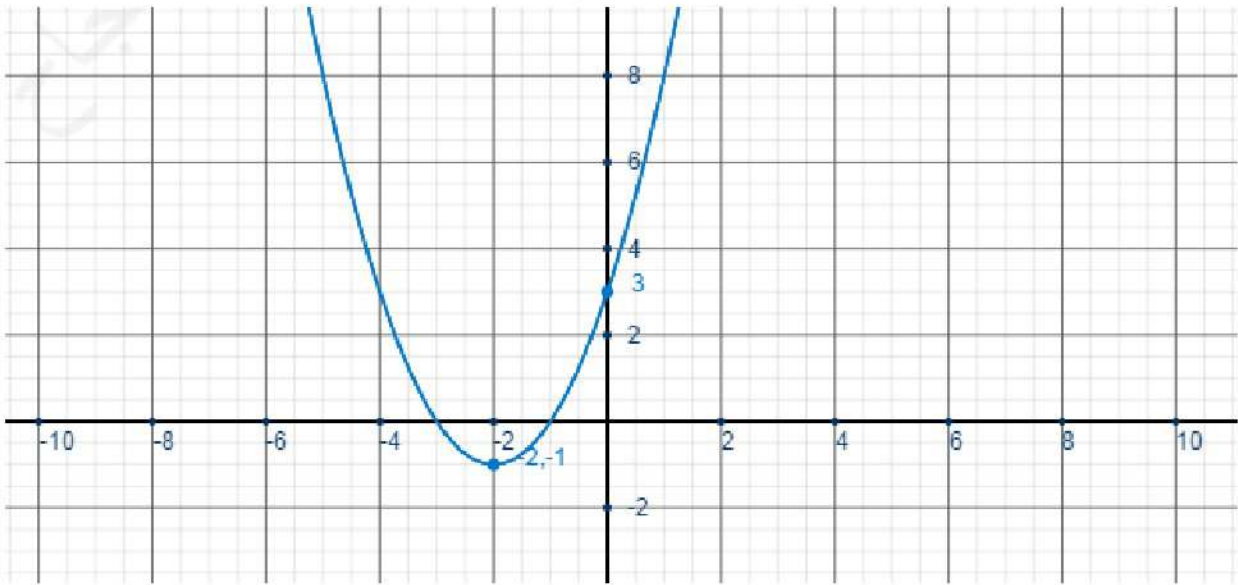
تمرين 5 : $f(x) = x^2 + 4x + 3$

x	$-\infty$	-2	$+\infty$
f(x)			

f عبارة عن دالة حدودية من الدرجة الثانية، إذن

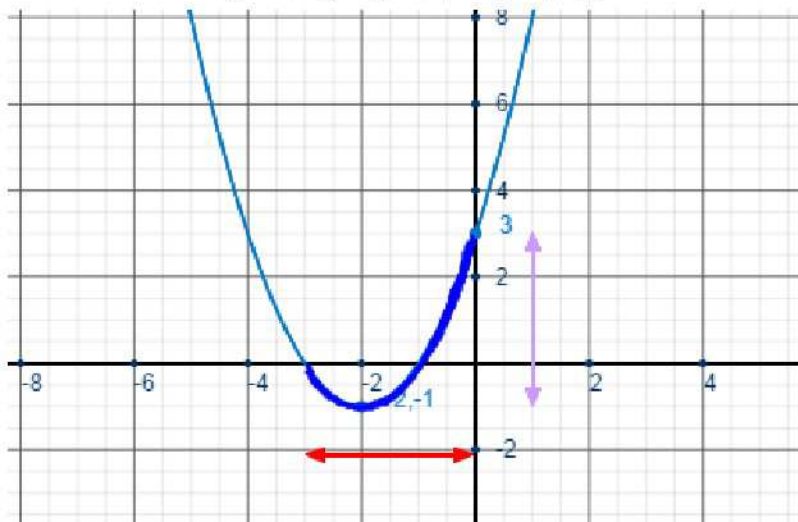
جدول تغيراتها $(\frac{-b}{2a} = \frac{-4}{2} = -2)$

1



2

مبيانيا نجد: $f([-3, 0]) = [-1; 3]$



3

$$\forall x \in \mathbb{R} \quad f(x) = x^2 + 4x + 4 - 1 = (x+2)^2 - 1 \quad \text{لدينا } \text{أ}$$

$$x \in [-3, 0] \Rightarrow -3 \leq x \leq 0 \Rightarrow -1 \leq x+2 \leq 2 \Rightarrow 0 \leq (x+2)^2 \leq 4 \Rightarrow -1 \leq (x+2)^2 - 1 \leq 3$$

$$x \in [-3, 0] \Rightarrow f(x) \in [-1; 3]$$

$$f([-3, 0]) \subset [-1; 3] \quad \text{إذن}$$

$$\exists x \in [-3; 0] / f(x) = y \quad \text{ولنبين } y \in [-1; 3]$$

$$f(x) = y \quad \text{من أجل ذلك نحل المعادلة:}$$

$$y = f(x) \Leftrightarrow y = (x+2)^2 - 1$$

$$\Leftrightarrow (x+2)^2 = y+1$$

$$\Leftrightarrow x+2 = \sqrt{y+1} \text{ ou } x+2 = -\sqrt{y+1} \quad (\text{car } y+1 \geq 0)$$

$$\Leftrightarrow x = \sqrt{y+1} - 2 \text{ ou } x = -\sqrt{y+1} - 2$$

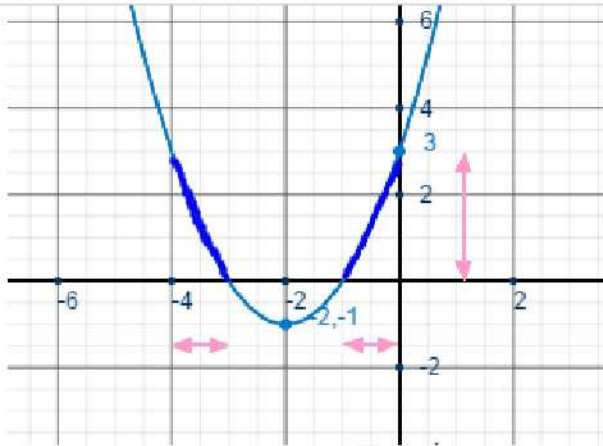
$$y \in [-1; 3] \Rightarrow -1 \leq y \leq 3 \Rightarrow 0 \leq y+1 \leq 4 \Rightarrow 0 \leq \sqrt{y+1} \leq 2 \Rightarrow -2 \leq \sqrt{y+1} - 2 \leq 0$$

$$y \in [-1; 3] \Rightarrow \sqrt{y+1} - 2 \in [-2; 0] \Rightarrow \sqrt{y+1} - 2 \in [-3; 0]$$

وبما أن :

إذن المعادلة $f(x) = y$ تقبل حلا على الأقل في المجال $[-1; 3]$

$$f([-3, 0]) = [-1; 3] \quad \text{بالتالي:}$$



$$f^{-1}([0, 3]) = [-4; -3] \cup [-1; 0] \quad \text{مبيانيا نجد:} \quad 5$$

$$x \in f^{-1}([0, 3]) \Leftrightarrow f(x) \in [0, 3] \Leftrightarrow 0 \leq (x+2)^2 - 1 \leq 3 \Leftrightarrow 1 \leq (x+2)^2 \leq 4 \Leftrightarrow 1 \leq |x+2| \leq 2$$

$$\Leftrightarrow \begin{cases} -2 \leq x+2 \leq 2 \\ x+2 \geq 1 \text{ ou } x+2 \leq -1 \end{cases} \Leftrightarrow \begin{cases} -4 \leq x \leq 0 \\ x \geq -1 \text{ ou } x \leq -3 \end{cases} \Leftrightarrow (-4 \leq x \leq -3 \text{ ou } -1 \leq x \leq 0)$$

$$f^{-1}([0, 3]) = [-4; -3] \cup [-1; 0] \quad \text{منه:} \quad 6$$

سلسلة 2	عموميات حول الدوال العددية	السنة 1 بكالوريا علوم رياضية
<p>تمرين 1: نعتبر الدالة العددية المعرفة بما يلي: $f(x) = \frac{x}{3} + \frac{3}{x}$</p> <p>1) ادرس زوجية الدالة f.</p> <p>2) أ) تحقق أن لكل x و y من $]0; +\infty[$ حيث $x \neq y$: $\frac{f(x) - f(y)}{x - y} = \frac{xy - 9}{3xy}$</p> <p>ب) استنتج تغيرات f على كل من المجالين $]0; 3[$ و $]3; +\infty[$</p> <p>ج) اعط جدول تغيرات الدالة f على \mathbb{R}^*</p> <p>3) استنتج القيمة الدنوية للدالة f على $]0; +\infty[$ و القيمة القصوى على $] -\infty; 0[$</p>		
<p>تمرين 2: نعتبر الدالة العددية المعرفة على \mathbb{R} بما يلي: $f(x) = x^3 + 3x^2 + 3x + 5$</p> <p>1) تحقق أن لكل x و y من \mathbb{R} حيث $x \neq y$: $\frac{f(x) - f(y)}{x - y} = \left(x + \frac{y+3}{2}\right)^2 + \frac{3}{4}(y+1)^2$</p> <p>2) استنتج تغيرات f على \mathbb{R}</p>		
<p>تمرين 3: نعتبر الدالتين $f(x) = x^2 - 1$ و $g(x) = \frac{x+1}{x-1}$</p> <p>1) اعط جدول تغيرات كل من f و g</p> <p>2) تحقق أن (C_f) و (C_g) يتقاطعان في $A_1(-1; 0)$ و $A_2(0; -1)$ و $A_3(2; 3)$</p> <p>3) أنشئ في نفس المعلم م.م.م (C_f) و (C_g).</p> <p>4) حدد مبيانيا صورة المجال $]2; +\infty[$ بالدالة g.</p> <p>5) نعتبر الدالة h المعرفة على المجال $I =]2; +\infty[$ بما يلي: $h(x) = \frac{4x}{(x-1)^2}$</p> <p>أ) تحقق أن: $h(x) = f \circ g(x)$ لكل x من I</p> <p>ب) ادرس رتبة الدالة h على I</p>		
<p>تمرين 4: نعتبر الدالتين $f(x) = \frac{1}{4}(x^2 - 2x)$ و $g(x) = \sqrt{x}$</p> <p>1) اعط جدول تغيرات الدالة f</p> <p>2) احسب $f(0)$ و $f(2)$ و $f(4)$ و $g(4)$ ثم أنشئ (C_f) و (C_g) في م.م.م $(O; \vec{i}; \vec{j})$</p> <p>3) حل مبيانيا المعادلة $f(x) = g(x)$</p> <p>4) حل مبيانيا المتراجحة $f(x) < g(x)$</p> <p>5) نعتبر الدالة المعرفة على \mathbb{R}^+ بما يلي: $h(x) = \frac{1}{4}(x - 2\sqrt{x})$، حدد منحنى تغيرات الدالة h على \mathbb{R}^+</p>		
<p>تمرين 5: نعتبر الدوال: $f(x) = x^2 - 2x - 3$ و $g(x) = x^2 - 2 x - 3$ و $h(x) = x^2 - 2x - 3$</p> <p>1) أ) اعط جدول تغيرات الدالة f ثم أنشئ (C_f) في م.م.م $(O; \vec{i}; \vec{j})$</p> <p>ب) حل مبيانيا المتراجحة: $f(x) \leq -3$</p> <p>ج) حدد عدد حلول المعادلة $f(x) = m$ حسب قيم البارامتر m</p> <p>2) أ) ادرس زوجية الدالة g</p> <p>ب) اعط جدول تغيرات الدالة g ثم أنشئ (C_g) في المعلم السابق.</p> <p>3) أ) أوجد جدول إشارة الدالة f</p>		

ب) استنتج تبسيطا للدالة h على $]-\infty; -1]$ و $[-1; 3]$ و $[3; +\infty[$
4) أنشئ (C_h) في المعلم السابق.

سلسلة 2	عموميات حول الدوال العددية حلول مقترحة	السنة 1 بكالوريا علوم رياضية												
	<p style="text-align: right;">تمرين 1: $f(x) = \frac{x}{3} + \frac{3}{x}$</p> <p>لدينا: $Df = \{x \in \mathbb{R} / x \neq 0\} = \mathbb{R}^*$ ، منه: $x \in Df \Rightarrow x \neq 0 \Rightarrow -x \neq 0 \Rightarrow -x \in Df$</p> <p>ومن جهة أخرى: $\forall x \in Df \quad f(-x) = -\frac{x}{3} + \frac{3}{-x} = \frac{-x}{3} + \frac{-3}{x} = -f(x)$</p> <p>بالتالي: f دالة فردية.</p>	1												
	<p>ليكن x و y من $]0; +\infty[$ حيث $x \neq y$ ، لدينا:</p> $T(x, y) = \frac{f(x) - f(y)}{x - y} = \frac{\frac{x}{3} + \frac{3}{x} - \frac{y}{3} - \frac{3}{y}}{x - y} = \frac{\frac{x - y}{3} + \frac{3y - 3x}{xy}}{x - y} = \frac{(x - y) \left(\frac{1}{3} - \frac{3}{xy} \right)}{x - y} = \frac{1}{3} - \frac{3}{xy} = \frac{xy - 9}{3xy}$	أ												
	<p>ليكن: x و y من $]0; 3]$ حيث $x \neq y$</p> $\begin{cases} x \in]0; 3] \\ y \in]0; 3] \end{cases} \Rightarrow \begin{cases} 0 < x \leq 3 \\ 0 < y \leq 3 \end{cases} \Rightarrow \begin{cases} xy > 0 \\ 0 < xy \leq 9 \end{cases} \Rightarrow \begin{cases} xy > 0 \\ xy - 9 \leq 0 \end{cases} \Rightarrow T(x, y) \leq 0$ <p>لدينا: $T(x, y) \leq 0$</p> <p>ليكن: x و y من $[3; +\infty[$ حيث $x \neq y$</p> $\begin{cases} x \in [3; +\infty[\\ y \in [3; +\infty[\end{cases} \Rightarrow \begin{cases} x \geq 3 \\ y \geq 3 \end{cases} \Rightarrow \begin{cases} xy > 0 \\ xy \geq 9 \end{cases} \Rightarrow \begin{cases} xy > 0 \\ xy - 9 \geq 0 \end{cases} \Rightarrow T(x, y) \geq 0$ <p>لدينا: $T(x, y) \geq 0$</p> <p>إذن: f تناقصية على $]0; 3]$ و تزايدية على $[3; +\infty[$</p> <p>حسب السؤال السابق وباستعمال فردية الدالة نستنتج أن:</p>	ب												
	<table border="1" style="width: 100%; text-align: center;"> <tr> <td style="width: 10%;">x</td> <td style="width: 15%;">$-\infty$</td> <td style="width: 15%;">-3</td> <td style="width: 15%;">0</td> <td style="width: 15%;">3</td> <td style="width: 15%;">$+\infty$</td> </tr> <tr> <td style="width: 10%;">$f(x)$</td> <td colspan="2" style="text-align: center;">↗ -2</td> <td style="border-left: 1px solid black; border-right: 1px solid black;"></td> <td colspan="2" style="text-align: center;">↘ 2 ↗</td> </tr> </table>	x	$-\infty$	-3	0	3	$+\infty$	$f(x)$	↗ -2			↘ 2 ↗		ج
x	$-\infty$	-3	0	3	$+\infty$									
$f(x)$	↗ -2			↘ 2 ↗										
	<p>حسب جدول التغيرات نستنتج أن القيمة الدنوية للدالة f على $]0; +\infty[$ هي $f(3) = 2$ و القيمة القصوى على $]-\infty; 0[$ هي $f(-3) = -2$</p>	3												
	<p style="text-align: right;">تمرين 2: $f(x) = x^3 + 3x^2 + 3x + 5$</p> <p>ليكن x و y من \mathbb{R} حيث $x \neq y$ ، لدينا:</p> $f(x) - f(y) = (x^3 + 3x^2 + 3x + 5) - (y^3 + 3y^2 + 3y + 5) = (x^3 - y^3) + 3(x^2 - y^2) + 3(x - y)$ $= (x - y)(x^2 + xy + y^2) + 3(x - y)(x + y) + 3(x - y)$ $f(x) - f(y) = (x - y)(x^2 + xy + y^2 + 3(x + y) + 3)$ <p>منه: $\frac{f(x) - f(y)}{x - y} = x^2 + xy + y^2 + 3x + 3y + 3$</p>	1												

$$\left(x + \frac{y+3}{2}\right)^2 + \frac{3}{4}(y+1)^2 = x^2 + x(y+3) + \frac{(y+3)^2}{4} + \frac{3}{4}(y^2 + 2y + 1)$$

$$= x^2 + xy + 3x + \frac{y^2 + 6y + 9 + 3y^2 + 6y + 3}{4}$$

$$= x^2 + xy + 3x + \frac{4y^2 + 12y + 12}{4}$$

من جهة أخرى ، لدينا :

$$\left(x + \frac{y+3}{2}\right)^2 + \frac{3}{4}(y+1)^2 = x^2 + xy + 3x + y^2 + 3y + 3$$

$$\frac{f(x) - f(y)}{x - y} = \left(x + \frac{y+3}{2}\right)^2 + \frac{3}{4}(y+1)^2$$

بما أن معدل تغير عددين حقيقيين مختلفين دائما موجب فإن الدالة تزايدية على IR 2

تمرين 3 : نعتبر الدالتين $f(x) = x^2 - 1$ و $g(x) = \frac{x+1}{x-1}$

x	$-\infty$	0	$+\infty$
$f(x)$			

f عبارة عن دالة حدودية من الدرجة الثانية
إذن تمثيلها المبياني عبارة عن شلجم رأسه :
 $\frac{-b}{2a} = \frac{0}{2} = 0$ ، وبما أن $a = 1 > 0$ ، فإن :

x	$-\infty$	1	$+\infty$
$g(x)$			

g عبارة عن دالة على شكل $\frac{ax+b}{cx+d}$ ، إذن
تمثيلها المبياني عبارة عن هذلول مركزه :

$$\Omega(1,1) \text{ وبما أن } \begin{vmatrix} 1 & 1 \\ 1 & -1 \end{vmatrix} = -2 < 0 \text{ فالدالة تناقصية}$$

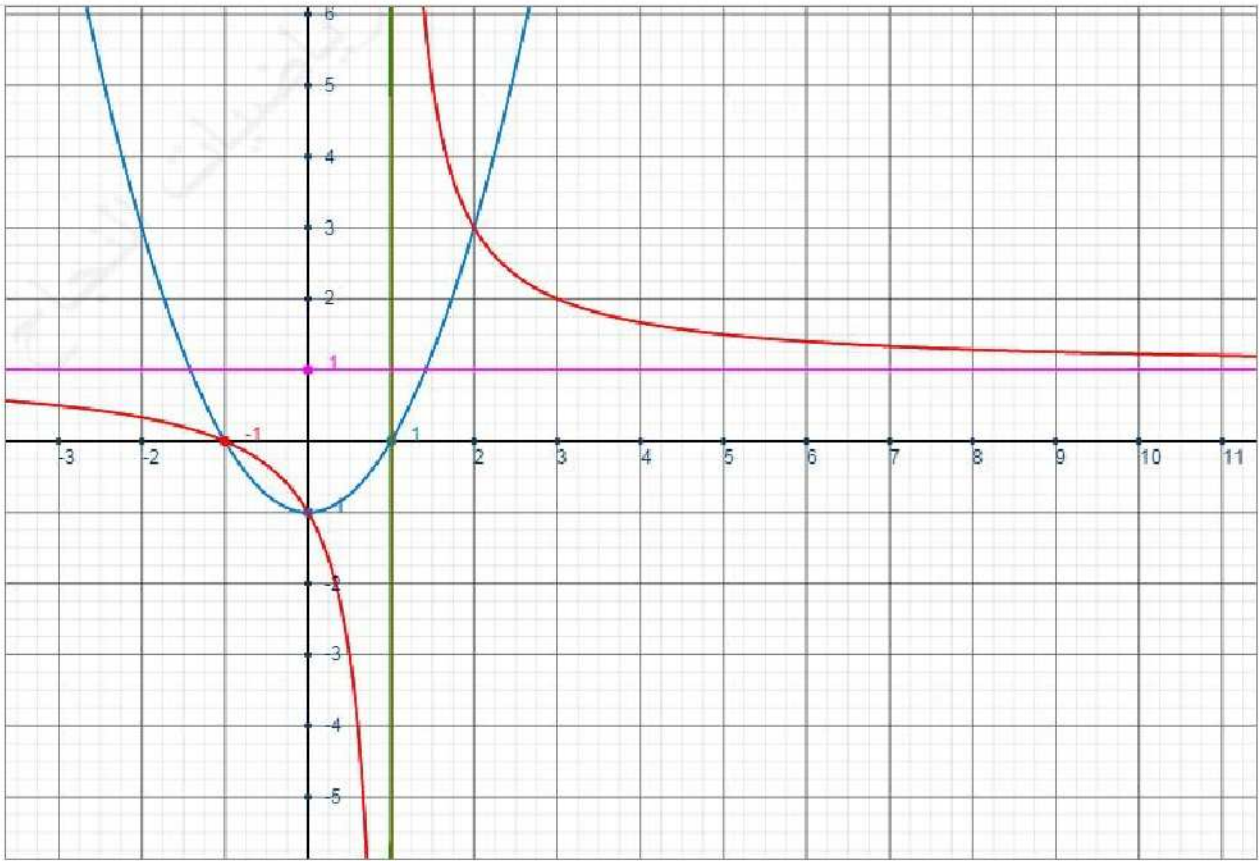
للتذكير مركز الهذلول هو : $\Omega\left(\frac{-d}{c}, \frac{a}{c}\right)$

لدينا : $f(-1) = 1 - 1 = 0$ و $g(-1) = \frac{0}{-2} = 0$ منه : $f(-1) = g(-1) = 0$

وأیضا : $f(0) = 0 - 1 = -1$ و $g(0) = \frac{1}{-1} = -1$ منه : $f(0) = g(0) = -1$

وأیضا : $f(2) = 4 - 1 = 3$ و $g(2) = \frac{3}{1} = 3$ منه : $f(2) = g(2) = 3$

بالتالي (C_f) و (C_g) يتقاطعان في $A_1(-1;0)$ و $A_2(0;-1)$ و $A_3(2;3)$ 2



3

4 مبيانيا نجد $g([2; +\infty[) =]1; 3]$ لدينا لكل x من I

$$f \circ g(x) = f(g(x)) = \left(\frac{x+1}{x-1}\right)^2 - 1 = \frac{(x+1)^2 - (x-1)^2}{(x-1)^2} = \frac{x^2 + 2x + 1 - (x^2 - 2x + 1)}{(x-1)^2} = \frac{4x}{(x-1)^2} = h(x) \quad \text{أ)}$$

5

لدينا g تناقصية على $I = [2; +\infty[$ ، و $g([2; +\infty[) =]1; 3]$ ، ولدينا f تزايدية على $]1; 3]$ إذن h تناقصية على I (ب)

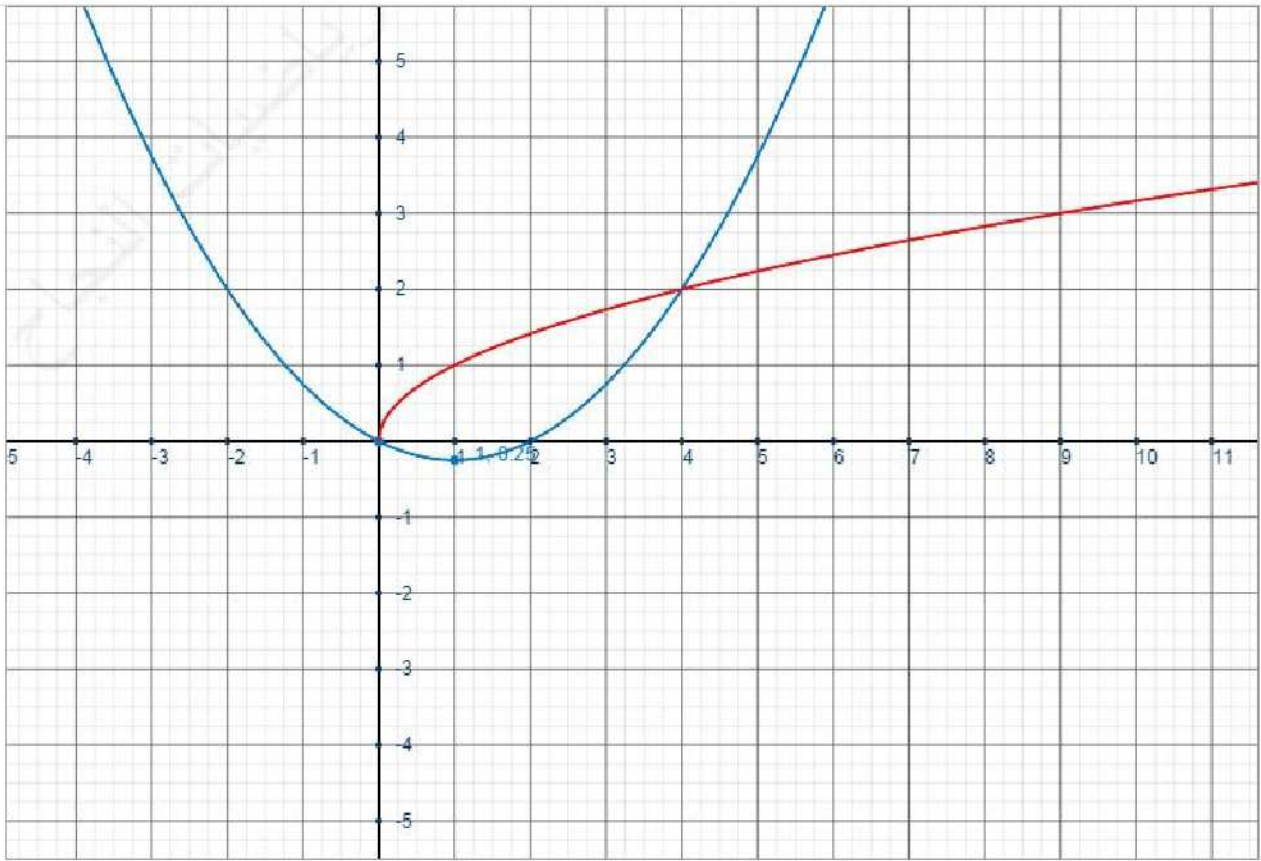
تمرين 4: $g(x) = \sqrt{x}$ و $f(x) = \frac{1}{4}(x^2 - 2x)$

x	$-\infty$	1	$+\infty$
$f(x)$			

f عبارة عن دالة حدودية من الدرجة الثانية
إذن تمثيلها المبياني عبارة عن شلجم رأسه :

$$\text{وبما أن } a = \frac{1}{4} > 0 \text{ فإن : } \frac{-b}{2a} = \frac{\frac{2}{4}}{\frac{1}{2}} = 1$$

1



2

$$f(0)=0 \text{ و } f(2)=0 \text{ و } f(4)=2 \text{ و } g(4)=2$$

3 مبيانيا المعادلة $f(x)=g(x)$ تقبل حلين هما: 0 و 4

4 مبيانيا مجموعة حلول المتراجحة $f(x) < g(x)$ هي: $S =]0;4[$

نعتبر الدالة المعرفة على IR^+ بما يلي: $h(x) = \frac{1}{4}(x - 2\sqrt{x})$ ، حدد منحنى تغيرات الدالة h على IR^+

$$\text{لدينا: } h(x) = \frac{1}{4}(x - 2\sqrt{x}) = \frac{1}{4}((\sqrt{x})^2 - 2\sqrt{x}) = f(g(x)) = f \circ g(x)$$

5 ▀ لدينا g تزايدية على $[1;+\infty[$ ، ولدينا مبيانيا $[1;+\infty[$ ، ولدينا $g([1;+\infty[) = [1;+\infty[$ وبما أن f تزايدية على $[1;+\infty[$ فإن h تزايدية على $[1;+\infty[$

▀ لدينا g تزايدية على $[0;1]$ ، ولدينا مبيانيا $[0;1]$ ، ولدينا $g([0;1]) = [0;1]$ وبما أن f تناقصية على $[0;1]$ فإن h تناقصية على $[0;1]$

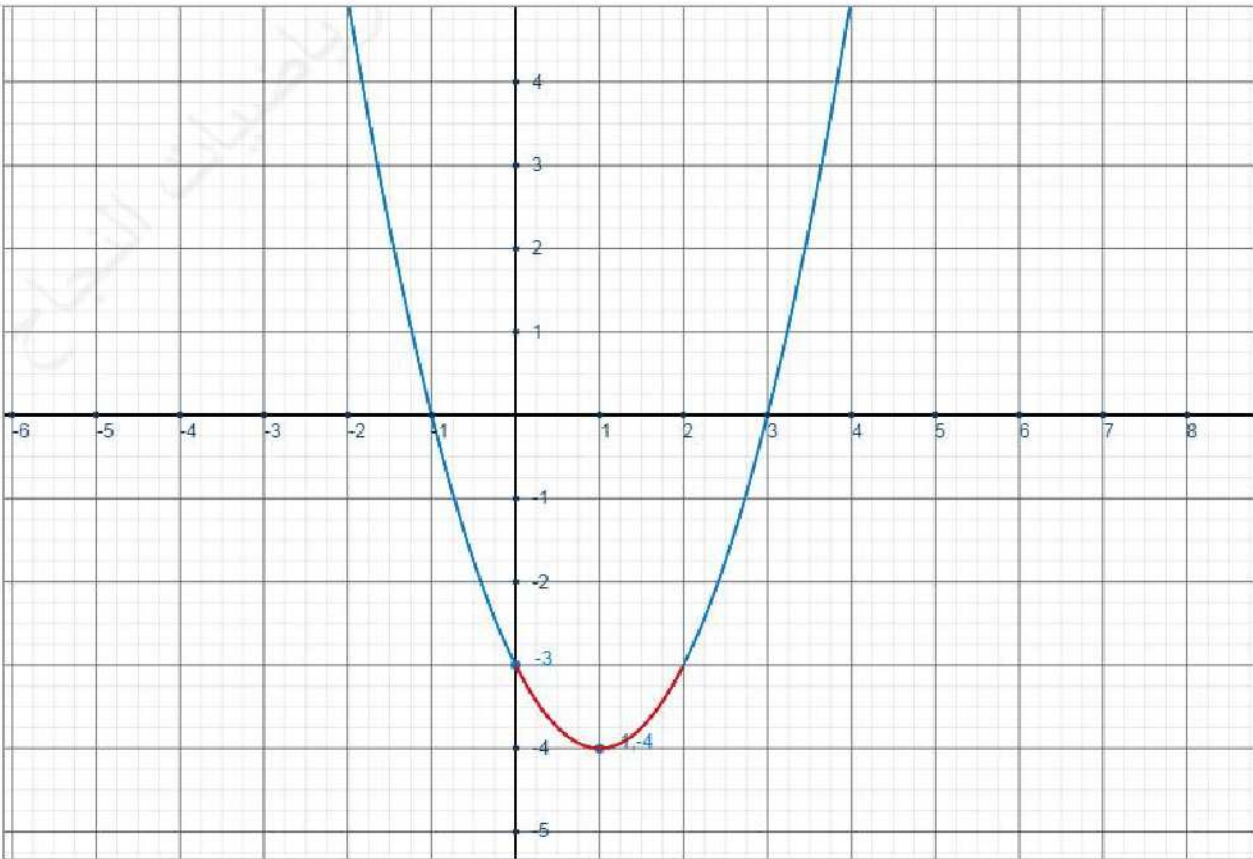
لم يكن ممكنا دراسة الرقابة على IR^+ مباشرة لأن $g(0) = [0;+\infty[$ ، لكن رقابة f على هذا المجال متغيرة (ليست دائما تزايدية ولا تناقصية)، لذلك قمنا بتقسيم المجال لمجالين حيث يكون صورة كل منهما عبارة عن مجال تكون فيه رقابة الدالة f ثابتة.

تمرين 5: نعتبر الدوال: $f(x) = x^2 - 2x - 3$ و $g(x) = x^2 - 2|x| - 3$ و $h(x) = |x^2 - 2x - 3|$

x	$-\infty$	1	$+\infty$
$f(x)$			

f عبارة عن دالة حدودية من الدرجة الثانية
إذن تمثيلها المبياني عبارة عن شلجم رأسه :

$$\text{أ) } 1 \quad \text{وبما أن } a = 1 > 0 \text{ ، فإن } \frac{-b}{2a} = \frac{2}{2} = 1$$

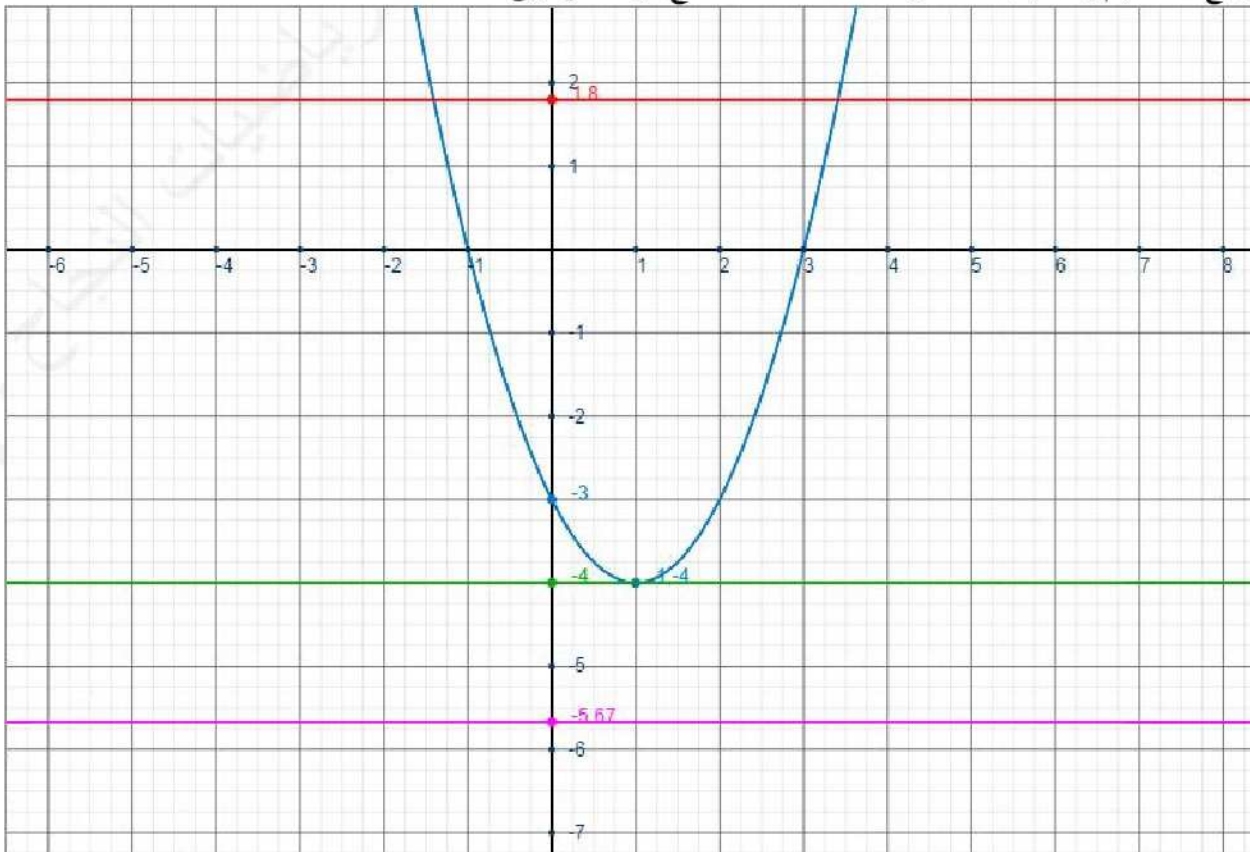


(ب) مبيانيا نجد أن مجموعة حلول المتراجحة: $f(x) \leq -3$ هي: $S = [0; 2]$

- إذا كان $m < -4$ فالمعادلة $f(x) = m$ لا حل لها
- إذا كان $m = -4$ فالمعادلة $f(x) = m$ لها حل وحيد (هو $x = 1$)
- إذا كان $m > -4$ فالمعادلة $f(x) = m$ لها حلان بالضبط.

ليس مطلوبا حل المعادلة بل فقط تحديد عدد الحلول

الطريقة تعتمد على تخيل مستقيم مواز لمحور الأفاصيل و يقطع محور الأفاصيل في نقطة أرتوبها m ، و وفق وضع المستقيم بالنسبة للمنحنى نحدد حالات التقاطع، وهذا توضيح:

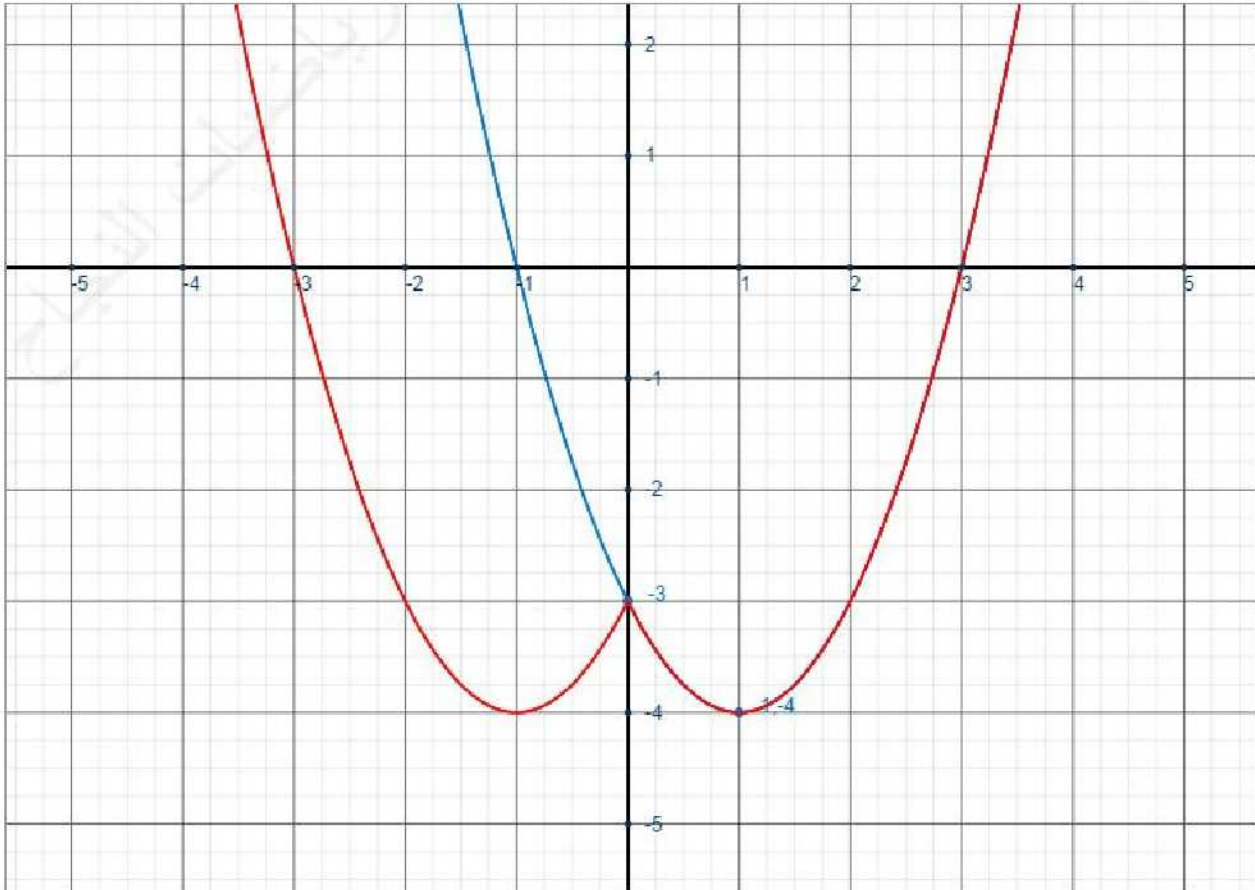


(ج)

أ) $Dg = IR$ و $\forall x \in IR \quad g(x) = g(-x)$ إذن f دالة زوجية.

بما أن f دالة زوجية، فتمثيلها المبياني متماثل بالنسبة لمحور الأرتياب.
بما أن $\forall x \in IR^+ \quad g(x) = f(x)$ فالتمثيل المبياني للدالة g هو نفس التمثيل المبياني للدالة f على IR^+

x	$-\infty$	-1	0	1	$+\infty$
$f(x)$		-4	-3	-4	



أ) على $[-\infty; -1[$ و $]3; +\infty[$ منه $f(x) \geq 0$ $h(x) = f(x)$

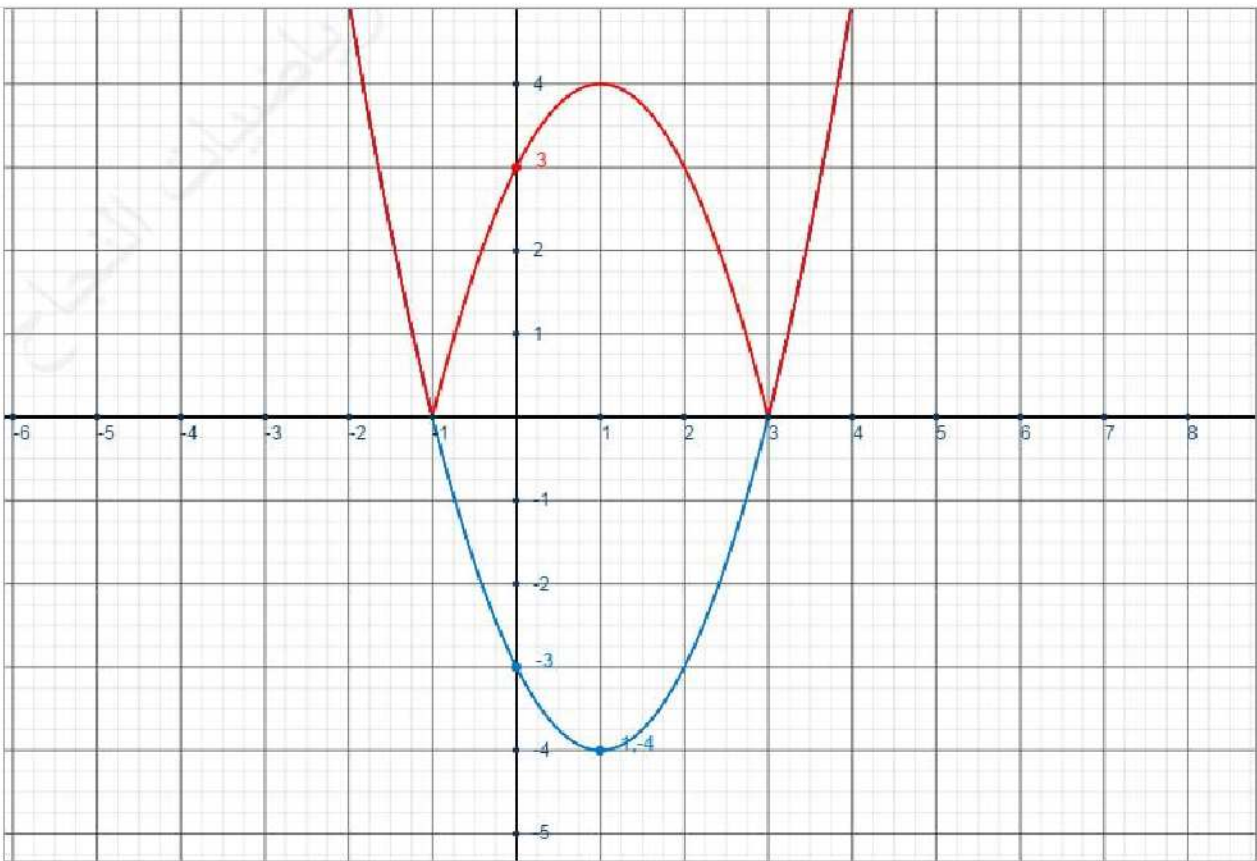
و على $[-1; 3]$ منه $f(x) \leq 0$ $h(x) = -f(x)$

2

ب

3

أ



4

سلسلة 3	عموميات حول الدوال العددية	السنة 1 بكالوريا علوم رياضية
<p>تمرين 1 : نعتبر الدوال : $f(x) = x^2 + 4x + 1$ و $g(x) = \sqrt{x+4}$ و $h(x) = \sqrt{x^2 + 4x + 5}$</p> <p>(1) حدد Dh و Dg (2) بين أن f مصغورة ب -3 (3) اعط جدول تغيرات الدالتين f و g (4) تحقق أن : $h = g \circ f$ (5) ادرس رتابة الدالة h على $]-\infty; -2]$ و $[-2; +\infty[$</p>		
<p>تمرين 2 : نعتبر الدوال $f(x) = x^2 - 4x + 3$ و $g(x) = x^2$ و $h(x) = x^4 - 4x^2 + 3$</p> <p>(1) ادرس زوجية الدالة h (2) اعط جدول تغيرات الدالتين f و g (3) اكتب h على شكل مركب دالتين. (4) حدد $g([0; \sqrt{2}])$ و $g([\sqrt{2}; +\infty[)$ (5) استنتج جدول تغيرات الدالة h على IR . (6) أنشئ (C_h) في م.م.م $(O; \vec{i}; \vec{j})$ (7) نعتبر الدالة المعرفة على IR بما يلي : $p(x) = x^4 - 4x^2 + 3$ أ) أنشئ (C_p) في المعلم السابق ب) حدد عدد حلول المعادلة $x^4 - 4x^2 + 3 = m$ حسب قيم البارامتر m</p>		
<p>تمرين 3 : نعتبر الدالتين : $f(x) = x^2 - x$ و $g(x) = \sqrt{ x }$ والمستقيم $(\Delta): y = -2x + 2$</p> <p>(1) اعط جدول تغيرات الدالتين f و g (2) أنشئ في نفس المعلم (C_f) و (C_g) و (Δ) (3) حدد مبيانيا عدد حلول المعادلة $\sqrt{ x } + 2x = 2$ (4) حدد جبريا إحداثيي نقط تقاطع (C_f) و (Δ) (5) حل مبيانيا المتراجحات التالية : $g(x) \leq 3$ ، $g(x) \geq 2$ ، $-2x + 2 < f(x) < 2$ (6) حدد مبيانيا صور المجالات : $I = [0; \frac{1}{4}[$ و $I = [\frac{1}{4}; +\infty[$ بالدالة g و صور المجالات : $[-2; 1]$ و $[2; +\infty[$ و $]-\infty; 0]$ بالدالة f (7) حدد تغيرات الدالة $h(x) = x - \sqrt{x}$ على مجموعة تعريفها (8) أنشئ في المعلم السابق منحنى الدالتين : $k(x) = x^2 + x$ و $p(x) = x^2 - x$ (9) m بارامتر حقيقي، حدد حسب قيم m عدد حلول المعادلة $x^2 + x = m$</p>		
<p>تمرين 4 :</p> <p>(1) حدد الجزء الصحيح للأعداد التالية : (حيث $n \in \mathbb{N}^*$) $\sqrt{3}$ ، $\sqrt{7} + 5$ ، $(\sqrt{2} + 1)^2$ ، $\sqrt{3} + \sqrt{5}$ ، $\sqrt{n^2 + n}$ ، $\frac{2n+1}{2n}$ ، $\frac{2n+3}{n+1}$ ، $\frac{n^2 + 2n + 4}{n+1}$</p> <p>(2) حل في IR المعادلات : $E(x) = 3$ ، $E(3x+5) = -1$ ، $4E(x^2 + 5) = 7$ ، $E\left(\frac{x+1}{2}\right) = \frac{x}{3}$</p>		

3) حل في IR المتراجحات: $E(x) \leq 4$ ، $2E(x) \leq 5$ ، $E(x) \geq 2$ ، $2E(x) \geq 5$ ، $|E(3x)| < 10$

تمرين 5 : - مزيدا من التفكير - السؤالان مستقلان

(1) حدد القيمة الدنوية المطلقة و القيمة المطلقة القصوية للدالة $f(x) = \frac{x}{x^2 + x + 1}$

(2) حل في IR المعادلة: $E(x^2) = (E(x))^2$

السنة 1 بكالوريا علوم رياضية	عموميات حول الدوال العددية حلول مقترحة	سلسلة 3								
تمرين 1: $f(x) = x^2 + 4x + 1$ و $g(x) = \sqrt{x+4}$ و $h(x) = \sqrt{x^2 + 4x + 5}$										
1	$Dg = \{x \in \mathbb{R} / x + 4 \geq 0\} = \{x \in \mathbb{R} / x \geq -4\} = [-4; +\infty[$	$Dh = \{x \in \mathbb{R} / x^2 + 4x + 5 \geq 0\}$ $Dh = \mathbb{R}$: منه ، $\Delta = 16 - 20 = -4 < 0$								
2	لنبين أن: $\forall x \in \mathbb{R} \quad f(x) \geq -3$ لدينا: $\forall x \in \mathbb{R} \quad f(x) - (-3) = x^2 + 4x + 1 + 3 = x^2 + 4x + 4 = (x+2)^2 \geq 0$ بالتالي: $\forall x \in \mathbb{R} \quad f(x) \geq -3$									
3	f عبارة عن دالة حدودية من الدرجة الثانية، إذن تمثيلها المبياني عبارة عن شلجم رأسه: إذن: $\frac{-b}{2a} = \frac{-4}{2} = -2$	<table border="1"> <tr> <td>x</td> <td>$-\infty$</td> <td>-2</td> <td>$+\infty$</td> </tr> <tr> <td>f(x)</td> <td colspan="3" style="text-align: center;"> </td> </tr> </table>	x	$-\infty$	-2	$+\infty$	f(x)			
x	$-\infty$	-2	$+\infty$							
f(x)										
	g عبارة عن دالة على شكل $\sqrt{x+a}$ ، إذن:	<table border="1"> <tr> <td>x</td> <td>$-\infty$</td> <td>-4</td> <td>$+\infty$</td> </tr> <tr> <td>g(x)</td> <td colspan="3" style="text-align: center;"> </td> </tr> </table>	x	$-\infty$	-4	$+\infty$	g(x)			
x	$-\infty$	-4	$+\infty$							
g(x)										
4	لدينا: $\forall x \in \mathbb{R} \quad g \circ f(x) = g(f(x)) = \sqrt{f(x)+4} = \sqrt{x^2 + 4x + 1 + 4} = \sqrt{x^2 + 4x + 5} = h(x)$									
5	رتابة الدالة h على $[-\infty; -2]$ لدينا f تناقصية على $[-\infty; -2]$ لدينا $f(-\infty; -2] = [f(-2); +\infty[= [-3; +\infty[$ لدينا g تزايدية على $[-3; +\infty[$ إذن h تناقصية على $[-\infty; -2]$	رتابة الدالة h على $[-2; +\infty[$ لدينا f تزايدية على $[-2; +\infty[$ لدينا $f(-2; +\infty[= [f(-2); +\infty[= [-3; +\infty[$ لدينا g تزايدية على $[-3; +\infty[$ إذن h تزايدية على $[-2; +\infty[$								
<p>🌟 لتعديد رتابة المركب $p \circ q(x)$ على مجال I، نتبع 3 مراحل:</p> <p>1) ندرس رتابة $q(x)$ على I (2) نحسب J صورة I بالدالة $q(x)$ (3) ندرس رتابة الدالة $p(x)$ على المجال J وفي الأخير نحدد رتابة المركب انطلاقاً من نتائج المرحلتين الأولى والثالثة مثل قاعدة إشارة جداء</p>										
تمرين 2: نعتبر الدوال $f(x) = x^2 - 4x + 3$ و $g(x) = x^2$ و $h(x) = x^4 - 4x^2 + 3$										
1	لدينا: $Dh = \mathbb{R}$ و $\forall x \in \mathbb{R} \quad h(-x) = h(x)$ إذن دالة زوجية									
2	f عبارة عن دالة حدودية من الدرجة الثانية، إذن تمثيلها المبياني عبارة عن شلجم رأسه: إذن: $\frac{-b}{2a} = \frac{4}{2} = 2$	<table border="1"> <tr> <td>x</td> <td>$-\infty$</td> <td>2</td> <td>$+\infty$</td> </tr> <tr> <td>f(x)</td> <td colspan="3" style="text-align: center;"> </td> </tr> </table>	x	$-\infty$	2	$+\infty$	f(x)			
x	$-\infty$	2	$+\infty$							
f(x)										
	g عبارة عن دالة حدودية من الدرجة الثانية، إذن تمثيلها المبياني عبارة عن شلجم رأسه: إذن: $\frac{-b}{2a} = \frac{0}{2} = 0$	<table border="1"> <tr> <td>x</td> <td>$-\infty$</td> <td>0</td> <td>$+\infty$</td> </tr> <tr> <td>g(x)</td> <td colspan="3" style="text-align: center;"> </td> </tr> </table>	x	$-\infty$	0	$+\infty$	g(x)			
x	$-\infty$	0	$+\infty$							
g(x)										

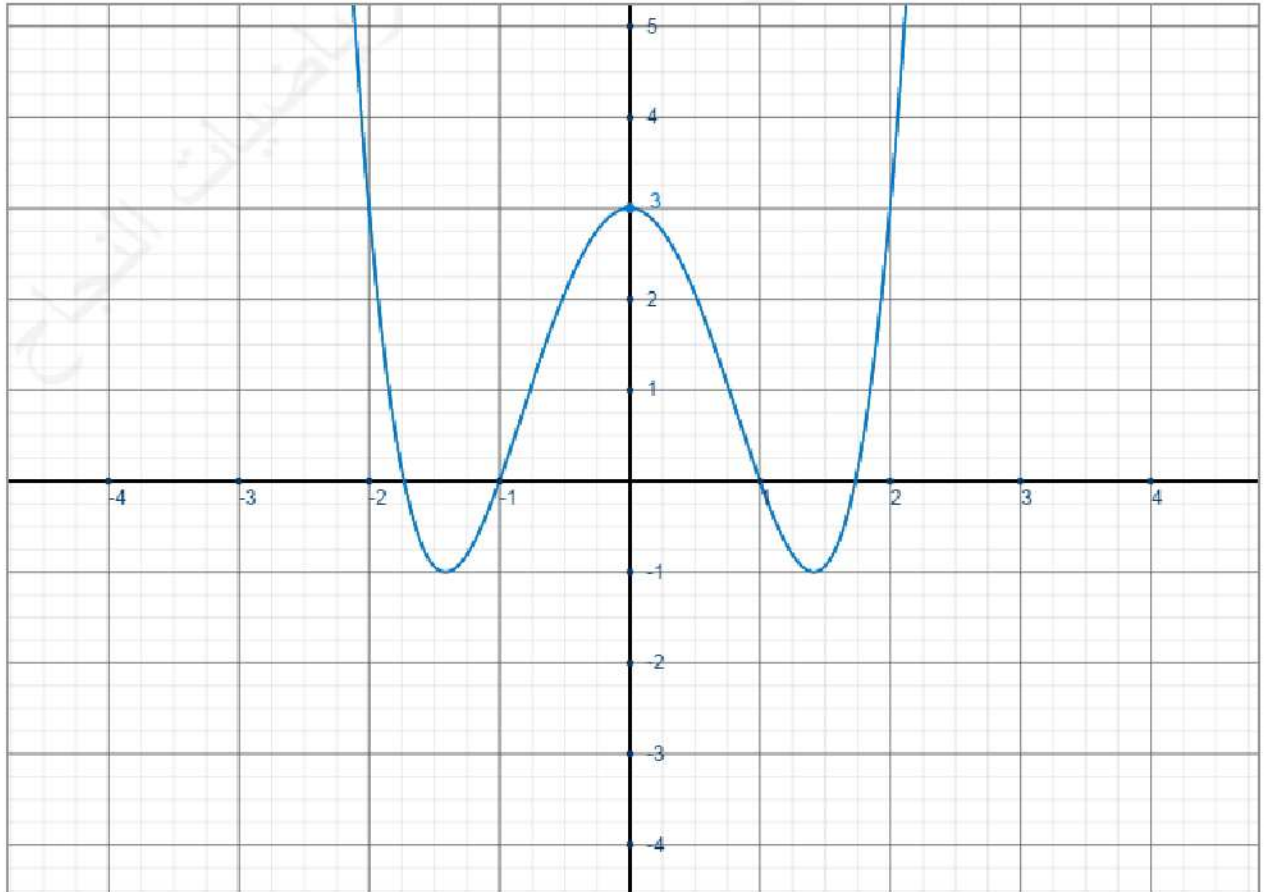
$$\forall x \in \mathbb{R} \quad h(x) = f(g(x)) = f \circ g(x) \quad 3$$

g تزايدية على $[0; \sqrt{2}]$ إذن $g([0; \sqrt{2}]) = [g(0); g(\sqrt{2})] = [0; 2]$
g تزايدية على $[\sqrt{2}; +\infty[$ إذن $g([\sqrt{2}; +\infty[) = [g(\sqrt{2}); +\infty[= [2; +\infty[$ 4

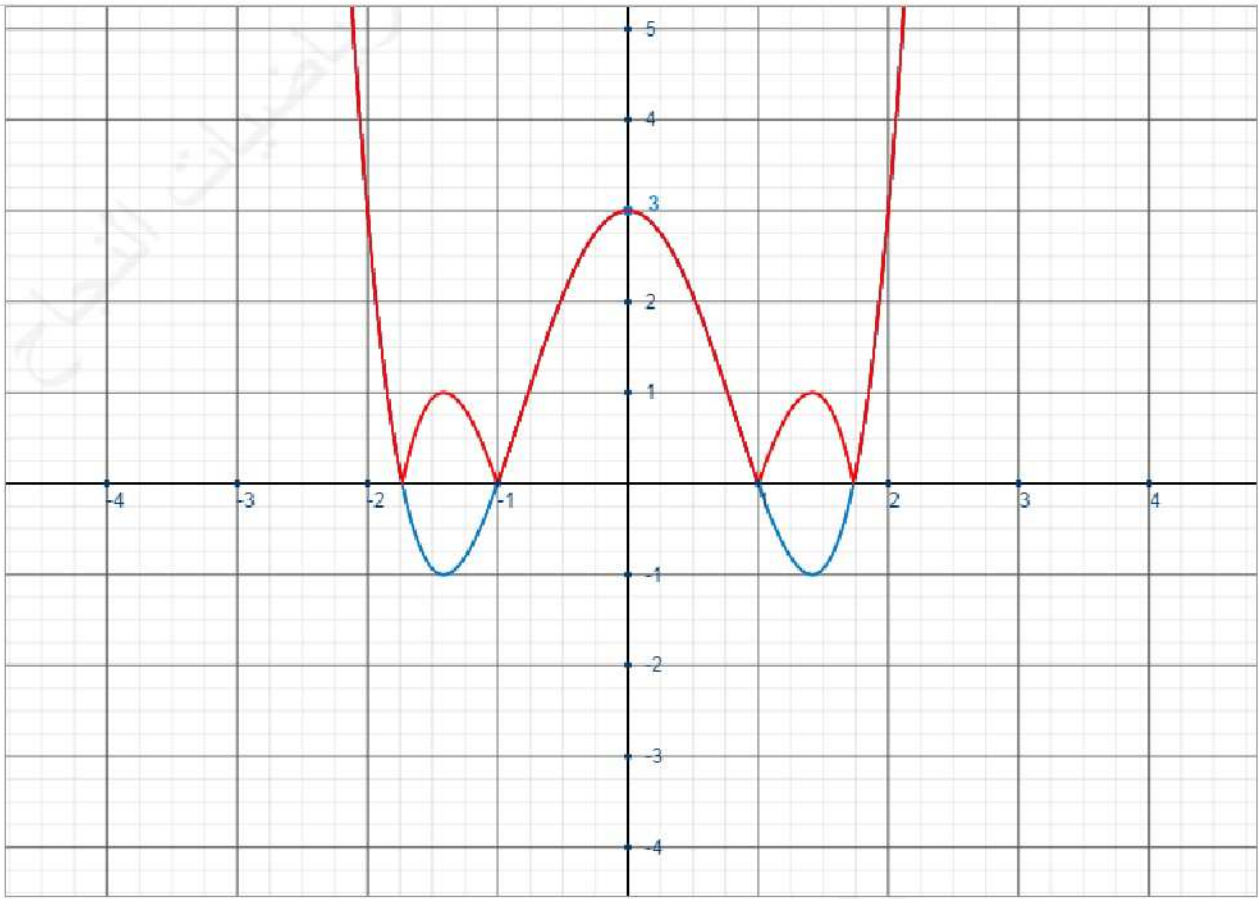
يمكن الاستعانة بجدول التغيرات مباشرة.

لدينا g تزايدية على $[0; \sqrt{2}]$ و $g([0; \sqrt{2}]) = [0; 2]$ و f تناقصية على $[0; 2]$ إذن h تناقصية على $[0; \sqrt{2}]$
ولدينا g تزايدية على $[\sqrt{2}; +\infty[$ و $g([\sqrt{2}; +\infty[) = [2; +\infty[$ و f تزايدية على $[2; +\infty[$ إذن h تزايدية على $[\sqrt{2}; +\infty[$

x	$-\infty$	$-\sqrt{2}$	0	$\sqrt{2}$	$+\infty$
h(x)		-1	3	-1	



لإنشاء الدالة (C_p) نحتفظ بمنحنى الدالة h الذي تكون فيه موجبة و نعكسه في الحالة الأخرى 7



أ

- إذا كان $m < 0$ فالمعادلة $p(x) = m$ لا حل لها
- إذا كان $m = 0$ فالمعادلة $f(x) = m$ لها 4 حلول بالضبط
- إذا كان $0 < m < 1$ فالمعادلة $f(x) = m$ لها 8 حلول بالضبط
- إذا كان $m = 1$ فالمعادلة $f(x) = m$ لها 6 حلول بالضبط
- إذا كان $1 < m < 3$ فالمعادلة $f(x) = m$ لها 4 حلول بالضبط
- إذا كان $m = 3$ فالمعادلة $f(x) = m$ لها 3 حلول بالضبط
- إذا كان $m > 3$ فالمعادلة $f(x) = m$ لها حلان بالضبط.

ب

تمرين 3: $f(x) = x^2 - x$ و $g(x) = \sqrt{|x|}$ ، $y = -2x + 2$ (Δ)

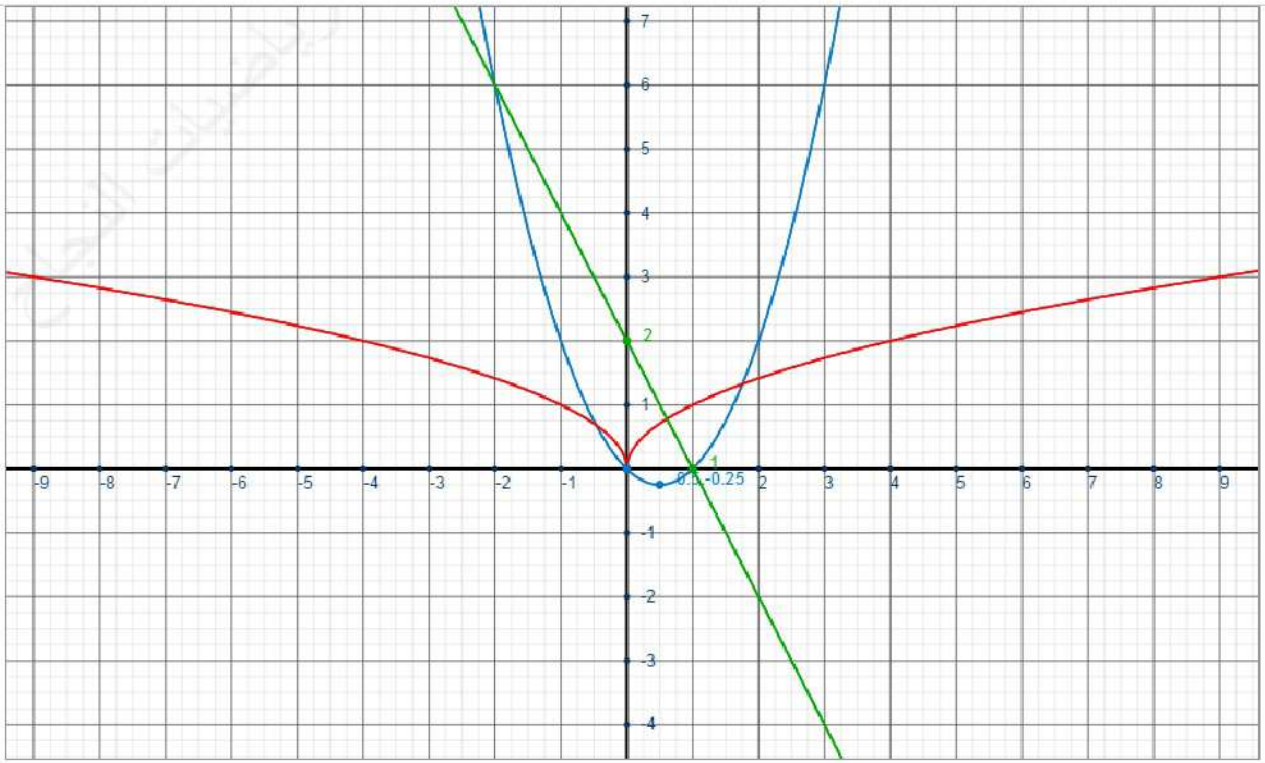
x	$-\infty$	$\frac{1}{2}$	$+\infty$
f(x)			

f عبارة عن دالة حدودية من الدرجة الثانية،
إذن تمثيلها المبياني عبارة عن شلجم رأسه :

$$\frac{-b}{2a} = \frac{-(-1)}{2} = \frac{1}{2}$$

x	$-\infty$	0	$+\infty$
g(x)			

1 لدينا : $Dg = \{x \in \mathbb{R} / |x| \geq 0\} = \mathbb{R}$
و $\forall x \in \mathbb{R} \quad g(-x) = \sqrt{|-x|} = \sqrt{|x|} = g(x)$
إذن : g دالة زوجية
من جهة أخرى : $\forall x \in \mathbb{R}^+ \quad g(x) = \sqrt{x}$
إذن جدول تغيراتها هو :



2

$$\text{المعادلة } \sqrt{x} + 2x = 2 \text{ تكافئ } g(x) = -2x + 2$$

3

مبيانيا نجد أن C_g و (Δ) يتقاطعان في نقطة واحدة، إذن المعادلة السابقة تقبل حلا وحيدا.

لنحدد جبريا إحداثي نقط تقاطع (C_f) و (Δ)

من أجل ذلك نحل المعادلة: $f(x) = -2x + 2$ أي: $x^2 - x = -2x + 2$ أي: $x^2 - x + 2x - 2 = 0$

4

$$\text{أي } x^2 + x - 2 = 0 \text{ لدينا: } \Delta = 1 + 8 = 9 \text{ منه: } x = \frac{-1-3}{2} = -2 \text{ أو } x = \frac{-1+3}{2} = 1$$

إذن (C_f) و (Δ) يتقاطعان في النقطتين: $E(1, f(1))$ و $F(-2, f(-2))$ أي: $E(1, 0)$ و $F(-2, 6)$

مبيانيا نجد أن:

$$\text{حل المتراجحة } g(x) \leq 3 \text{ هو: } S = [-9; 9]$$

5

$$\text{حل المتراجحة } g(x) \geq 2 \text{ هو: } S =]-\infty, -4] \cup [4, +\infty[$$

$$\text{حل المتراجحة } -2x + 2 < f(x) < 2 \text{ هو: } S = (]-\infty, -2] \cup [1, +\infty[) \cap [-1, 2] = [1; 2]$$

$$g\left(\left[\frac{1}{4}; +\infty\right]\right) = \left[\frac{1}{2}; +\infty\right] \text{ و } g\left(\left[0; \frac{1}{4}\right]\right) = \left[0; \frac{1}{2}\right]$$

6

$$f(]-\infty; 0]) = [0; +\infty[\text{ و } f([2; +\infty[) = [2; +\infty[\text{ و } f([-2; 1]) = \left[\frac{-1}{4}; 6\right]$$

لدينا: $Dh = \mathbb{R}^+$ و $\forall x \in \mathbb{R}^+ h(x) = x - \sqrt{x} = (\sqrt{x})^2 - \sqrt{x} = f(\sqrt{x}) = f(g(x)) = f \circ g(x)$

رتابة الدالة h على $J = \left[\frac{1}{4}; +\infty\right[$ ، لدينا :

▪ g تزايدية على J

$$\text{▪ } g(J) = \left[\frac{1}{2}; +\infty\right[\text{ و } f \text{ تزايدية على } \left[\frac{1}{2}; +\infty\right[$$

إذن h تزايدية على $\left[\frac{1}{4}; +\infty\right[$

رتابة الدالة h على $I = \left[0; \frac{1}{4}\right[$ ، لدينا :

▪ g تزايدية على I

$$\text{▪ } g(I) = \left[0; \frac{1}{2}\right[\text{ و } f \text{ تناقصية على } \left[0; \frac{1}{2}\right[$$

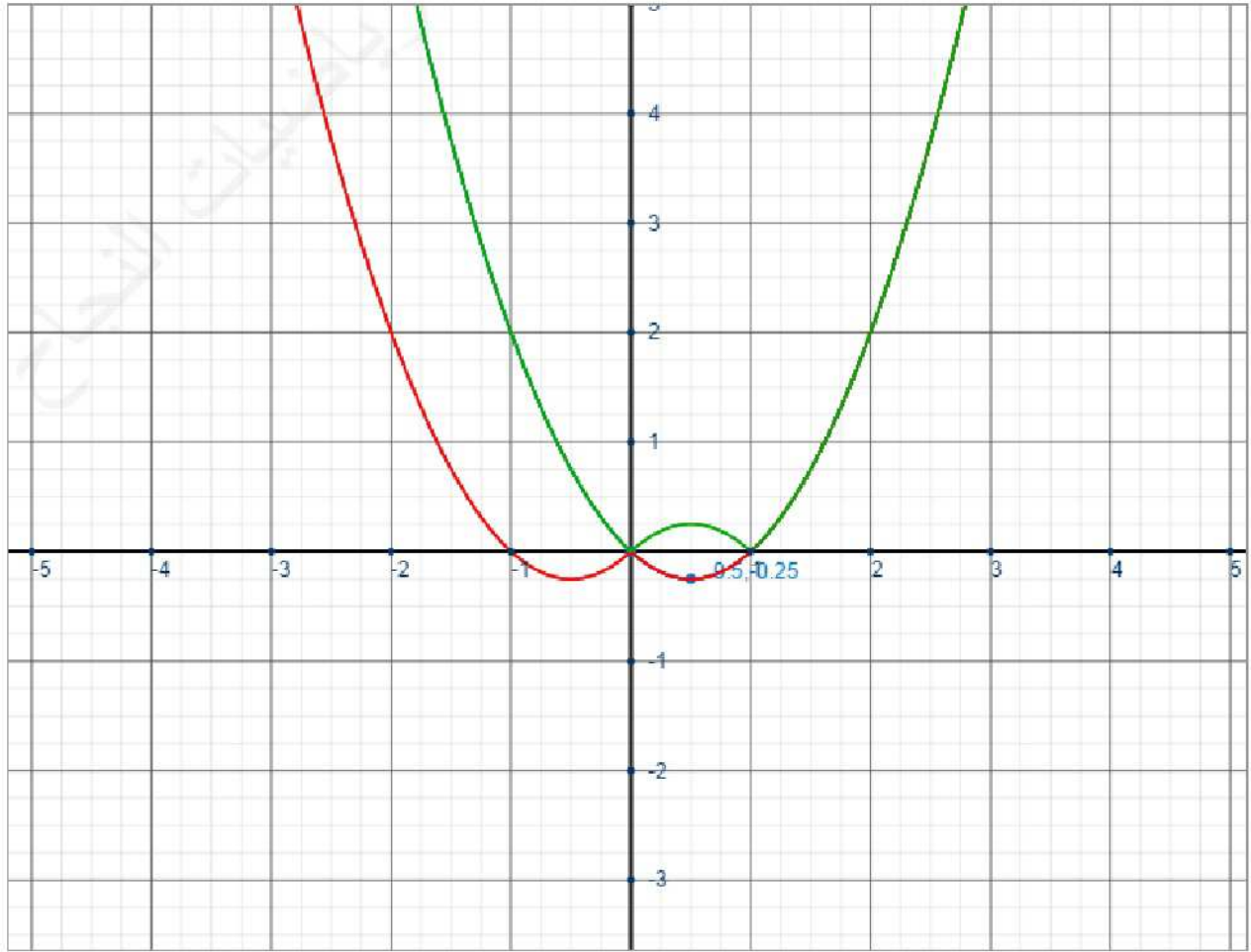
إذن h تناقصية على $\left[0; \frac{1}{4}\right[$

7

صعوبة السؤال تكمن في إيجاد التقسيم المناسب للمجال $[0; +\infty[$ حتى يمكن تطبيق خاصية رتابة مركب دالتين

$k(x)$ دالة زوجية تساوي $f(x)$ على $[0; +\infty[$ (اللون الأحمر)

منحنى الدالة $p(x)$ يطابق منحنى الدالة f في المجال الذي تكون فيه موجبة ويمثله في الحالة الأخرى (اللون الأخضر)



8

■ إذا كان $m < \frac{-1}{4}$ فالمعادلة $k(x) = m$ لا حل لها

■ إذا كان $m = \frac{-1}{4}$ فالمعادلة $k(x) = m$ لها حلان بالضبط.

■ إذا كان $-\frac{1}{4} < m < 0$ فالمعادلة $k(x) = m$ لها 4 حلول بالضبط

■ إذا كان $m = 0$ فالمعادلة $k(x) = m$ لها 3 حلول بالضبط

■ إذا كان $m > 0$ فالمعادلة $k(x) = m$ لها حلان بالضبط

9

تمرين 4: $n \in \mathbb{N}^*$

■ لدينا: $1 < 3 < 4$ منه $1 < \sqrt{3} < 2$: $E(\sqrt{3}) = 1$

■ لدينا: $4 < 7 < 9$ منه $2 < \sqrt{7} < 3$ منه $7 < \sqrt{7} + 5 < 8$: $E(\sqrt{7} + 5) = 7$

■ لدينا: $(\sqrt{2} + 1)^2 = 3 + \sqrt{8}$ و $2 < \sqrt{8} < 3$ منه $5 < (\sqrt{2} + 1)^2 < 6$: $E((\sqrt{2} + 1)^2) = 5$

■ لدينا: $n^2 \leq n^2 + n < n^2 + 2n + 1$: منه $n \leq \sqrt{n^2 + n} < n + 1$: $E(\sqrt{n^2 + n}) = n$

■ لدينا: $\frac{2n+1}{2n} = 1 + \frac{1}{2n}$ و $0 \leq \frac{1}{2n} < 1$: منه $E\left(\frac{2n+1}{2n}\right) = 1 + E\left(\frac{1}{2n}\right) = 1 + 0 = 1$

1

■ لدينا: $\frac{2n+3}{n+1} = 2 + \frac{1}{n+1}$ و $0 \leq \frac{1}{n+1} < 1$: منه $E\left(\frac{2n+3}{n+1}\right) = 2 + E\left(\frac{1}{n+1}\right) = 2 + 0 = 2$

■ لدينا: $\frac{n^2 + 2n + 4}{n+1} = n + 1 + \frac{3}{n+1}$: منه $E\left(\frac{n^2 + 2n + 4}{n+1}\right) = n + 1 + E\left(\frac{3}{n+1}\right)$

إذا كان $\frac{3}{n+1} < 1$ (أي $n > 2$) فإن $E\left(\frac{n^2 + 2n + 4}{n+1}\right) = n+1$

إذا كان: $n = 2$ (لا توجد حالة أخرى لكون $n \in \mathbb{N}^*$) فإن: $E\left(\frac{n^2 + 2n + 4}{n+1}\right) = 3 + E\left(\frac{3}{3}\right) = 4$

للتكبير: إذا كان $p \leq x < p+1$ حيث $p \in \mathbb{Z}$ فإن: $E(x) = p$

$E(x+p) = p + E(x)$ لكل $x \in \mathbb{R}$ و لكل $p \in \mathbb{Z}$

قد نظطر لدراسة الحالات في تعابير تتضمن بارامترا أو متغيرا.

$$S = [3; 4[\text{ بالتالي: } E(x) = 3 \Leftrightarrow 3 \leq x < 4 \quad \blacksquare$$

$$S = \left[-2; \frac{-5}{3}\right[\text{ بالتالي: } E(3x+5) = -1 \Leftrightarrow -1 \leq 3x+5 < 0 \Leftrightarrow -2 \leq x < \frac{-5}{3} \quad \blacksquare$$

$$S = \emptyset \text{ بالتالي: } 4E(x^2+5) = 7 \Leftrightarrow E(x^2+5) = \frac{7}{4} \notin \mathbb{Z} \quad \blacksquare$$

$$E\left(\frac{x+1}{2}\right) = \frac{x}{3} \Leftrightarrow \begin{cases} E\left(\frac{3k+1}{2}\right) = k \\ k \in \mathbb{Z} \end{cases} \Leftrightarrow \begin{cases} k \leq \frac{3k+1}{2} < k+1 \\ k \in \mathbb{Z} \end{cases}$$

$$\Leftrightarrow \begin{cases} 2k \leq 3k+1 < 2k+2 \\ k \in \mathbb{Z} \end{cases} \Leftrightarrow \begin{cases} -1 \leq k < 1 \\ k \in \mathbb{Z} \end{cases} \quad \text{نضع: } \frac{x}{3} = k \text{ فتصبح المعادلة تكافئ:}$$

$$\Leftrightarrow k = 0 \text{ ou } k = -1$$

بالتالي: $S = \{0; -3\}$

$$S =]-\infty; 5[\text{ بالتالي: } E(x) \leq 4 \Leftrightarrow x < 5 \quad \blacksquare$$

$$S =]-\infty; 3[\text{ بالتالي: } 2E(x) \leq 5 \Leftrightarrow E(x) \leq 2,5 \Leftrightarrow E(x) \leq 2 \Leftrightarrow x < 3 \quad \blacksquare$$

$$S = [2; +\infty[\text{ بالتالي: } E(x) \geq 2 \Leftrightarrow x \geq 2 \quad \blacksquare$$

$$S = [3; +\infty[\text{ بالتالي: } 2E(x) \geq 5 \Leftrightarrow E(x) \geq 2,5 \Leftrightarrow E(x) \geq 3 \Leftrightarrow x \geq 3 \quad \blacksquare$$

$$|E(3x)| < 10 \Leftrightarrow -10 < E(3x) < 10 \Leftrightarrow -9 \leq E(3x) \leq 9 \Leftrightarrow -9 \leq 3x < 10 \Leftrightarrow -3 \leq x < \frac{10}{3} \quad \blacksquare$$

$$S = \left[-3; \frac{10}{3}\right[\text{ بالتالي:}$$

الهدف من التمرين التعريف بإحدى القواعد غير المعروفة: $E(x) \leq p \Leftrightarrow x < p$ و $E(x) \geq p \Leftrightarrow x \geq p$ حيث $p \in \mathbb{Z}$

تمرين 5: - مزيدا من التفكير -

حدد القيمة الدنيا المطلقة و القيمة المطلقة القصوية للدالة $f(x) = \frac{x}{x^2 + x + 1}$

أولا لدينا: $\forall x \in \mathbb{R} \quad x^2 + x + 1 > 0$ لأن $\Delta = -3 < 0$ و $a = 1 > 0$

من جهة أخرى، ليكن: $(\alpha, \beta) \in \mathbb{R}^2$ ، نعتبر العبارة (P): $\forall x \in \mathbb{R} \quad \alpha \leq f(x) \leq \beta$

$$(P) \Leftrightarrow \forall x \in \mathbb{R} \quad \alpha \leq \frac{x}{x^2 + x + 1} \leq \beta$$

$$(P) \Leftrightarrow \forall x \in \mathbb{R} \quad \alpha x^2 + \alpha x + \alpha \leq x \leq \beta x^2 + \beta x + \beta$$

$$(P) \Leftrightarrow \forall x \in \mathbb{R} \quad \begin{cases} \alpha x^2 + (\alpha - 1)x + \alpha \leq 0 \\ \beta x^2 + (\beta - 1)x + \beta \geq 0 \end{cases}$$

لدينا:

إذن لكي تتحقق العبارة (P) يكفي أن يكون : $\begin{cases} \beta > 0 \\ (\beta-1)^2 - 4\beta^2 \leq 0 \end{cases}$ و $\begin{cases} \alpha < 0 \\ (\alpha-1)^2 - 4\alpha^2 \leq 0 \end{cases}$

أي : $\begin{cases} \beta > 0 \\ -3\beta^2 - 2\beta + 1 \leq 0 \end{cases}$ و $\begin{cases} \alpha < 0 \\ -3\alpha^2 - 2\alpha + 1 \leq 0 \end{cases}$

لدينا محددة الحدودية $-3x^2 - 2x + 1$ هي $\Delta = 4 + 12 = 16$: منه $x_1 = \frac{2-4}{-6} = \frac{1}{3}$ و $x_2 = \frac{2+4}{-6} = -1$

منه : $-3x^2 - 2x + 1 \leq 0 \Leftrightarrow x \geq \frac{1}{3}$ ou $x \leq -1$ (باستعمال جدول الإشارات)

إذن لكي تتحقق العبارة (P) يكفي أن يكون : $\begin{cases} \beta > 0 \\ \beta \geq \frac{1}{3} \text{ ou } \beta \leq -1 \end{cases}$ و $\begin{cases} \alpha < 0 \\ \alpha \geq \frac{1}{3} \text{ ou } \alpha \leq -1 \end{cases}$

إذن يكفي أن نأخذ: $\alpha = \frac{1}{3}$ و $\beta = -1$

الآن نبرهن بسهولة أن : $\forall x \in \mathbb{R} -1 \leq f(x) \leq \frac{1}{3}$ (P): (بحساب الفرق)

وأیضا : $f(1) = \frac{1}{3}$ و $f(-1) = -1$ وبذلك يكون : $\text{Min}_{x \in \mathbb{R}} f(x) = -1$ و $\text{Max}_{x \in \mathbb{R}} f(x) = \frac{1}{3}$

لنحل في \mathbb{R} المعادلة : $E(x^2) = (E(x))^2$

نضع : $E(x) = p$ منه $E(x^2) = p^2$ منه : $\begin{cases} p \leq x < p+1 \\ p^2 \leq x^2 < p^2+1 \end{cases}$

إذا كان : $p < 0$: فإن $p \leq -1$ منه $p+1 \leq 0$ منه $(p+1)^2 < x^2 \leq p^2$ منه $p^2 \leq x^2 < p^2+1$

$x^2 = p^2$ منه : $x = p$ أو $x = -p$ ، عكسيا العدان p و $-p$ يحققان المعادلة.

إذا كان $p \geq 0$ فإن المعادلة تكافئ : $\begin{cases} x \geq 0 \\ p^2 \leq x^2 < (p+1)^2 \\ p^2 \leq x^2 < p^2+1 \end{cases}$ تكافئ : $\begin{cases} x \geq 0 \\ p^2 \leq x^2 < p^2+2p+1 \\ p^2 \leq x^2 < p^2+1 \end{cases}$

تكافئ : $\begin{cases} x \geq 0 \\ p \leq x < p^2+1 \end{cases}$ (لأن : $p^2+1 \leq p^2+2p+1$ حيث أن : $x < p^2+1 \Rightarrow x < p^2+2p+1$)

تكافئ : $p \leq x < \sqrt{p^2+1}$

خلاصة : $S = \{p, -p / p \in \mathbb{N}^*\} \cup \left(\bigcup_{p \in \mathbb{N}} [p, \sqrt{p^2+1}[\right) = Z \cup \left(\bigcup_{p \in \mathbb{N}} [p, \sqrt{p^2+1}[\right)$

مجموعة الحلول هي عبارة عن اتحاد المجموعة Z و مجالات ، مثلا المجال $[3; \sqrt{10}[$ جزء من مجموعة الحلول

الرمز $\left(\bigcup_{p \in \mathbb{N}} [p, \sqrt{p^2+1}[\right)$ يرمز لاتحاد مجالات غير منتهية